

平成30年度

上宮太子高等学校 入学考査問題

社 会

(50分)

〔注意〕 次の(1)～(5)をよく読むこと。

注 意 事 項

- (1) この問題冊子は、「開始」の合図があるまで開いてはいけません。
- (2) 問題は、**1**から**4**まであります。印刷不鮮明、ページの落丁・乱丁等に気付いた場合は、挙手して監督者に知らせなさい。
- (3) 解答用紙は、別に1枚あります。解答はすべて解答用紙に記入しなさい。
- (4) 受験番号・名前は、問題冊子と解答用紙の両方に記入しなさい。
- (5) 「終了」の合図で、筆記用具を置きなさい。

受 験 番 号				名 前

- 1 次の表は、9つの都道府県の地理的な資料をまとめたものです。[表]の(あ)～(え)にあてはまる都道府県を[地図]のA～Gからそれぞれ選びなさい。そして、その都道府県の工業の様子を[説明文]の①～④からそれぞれ選んで、解答用紙に記号で答えなさい。また、後の問いに答えなさい。

[表]

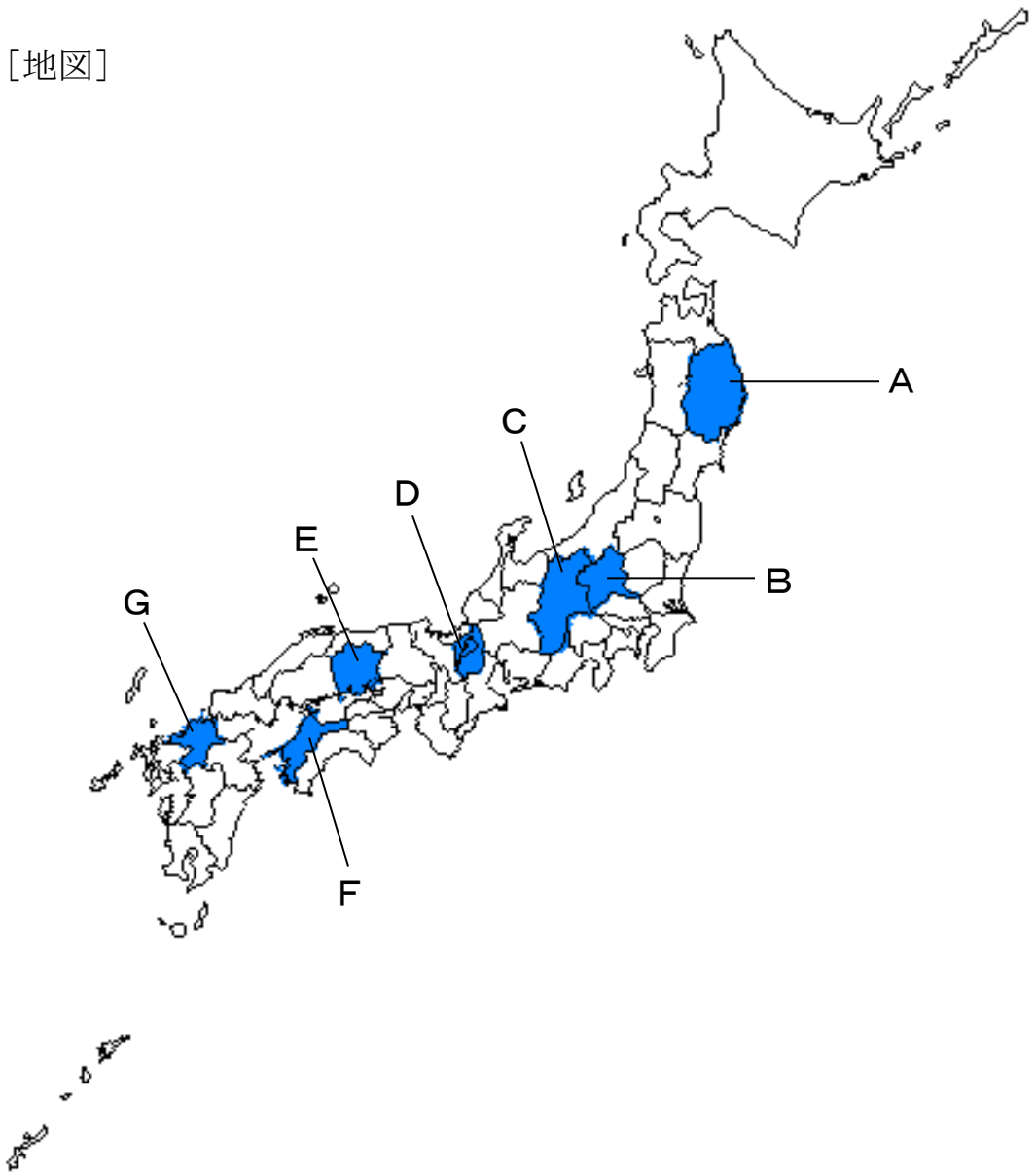
	人口 増加率 (%) ¹⁾	水稲 収穫量 (千トン)	小麦 収穫量 (百トン)	キャベツ 収穫量 (千トン)	いちご 収穫量 (千トン)	乳用牛 飼養頭数 (千頭)	生乳 生産量 (千トン)	内水面養殖業 あゆ (トン)
神奈川	1.3	16	1	80	—	8	48	28
(あ)	0.3	174	196	5	—	4	24	512
静岡	-4.1	90	14	15	10	15	99	216
千葉	-0.5	334	15	129	—	36	238	X
(い)	-4.8	90	266	260	—	38	251	2
(う)	-6.9	305	61	32	—	46	225	2
青森	-10.2	296	22	14	—	13	70	X
佐賀	-4.9	135	347	9	9	3	19	—
(え)	0.4	189	500	29	18	16	90	X

Xは秘匿されている数字。

1) 千分率。1000分の1を1とする単位。

[データでみる県勢 2014年版(矢野恒太記念会)、地理統計要覧 2015年版(二宮書店)による]

[地図]



[説明文]

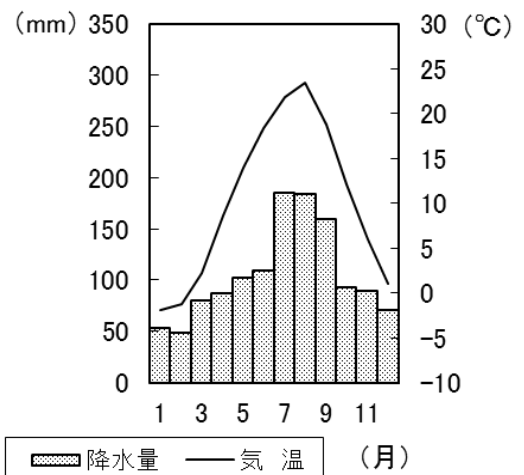
- ① 夏には、(a)都市の気温が周囲よりも高くなるという現象などによって、猛暑日に達することが多く、時には40度前後まで気温が上昇することもあるなど、わが国でも有数の酷暑となる都市が存在する都道府県である。工業では、わが国を代表する自動車会社の工場が存在するため、自動車関連産業などの機械工業が盛んに行われており、周辺地域に存在する工業地域の一翼を担っている。

- ② わが国でも有数のリアス海岸が存在する都道府県である。近代以降、沿岸部で産出された鉄鉱石を用いた鉄鋼業が盛んに行われていた。20世紀後半になると、空港や高速道路網が整備され、さらに、安くて広い土地や労働力、豊かな水の存在により半導体産業などの工業が盛んに行われ、シリコンロードの一部を支えている。
- ③ 昨年むなかたの7月、世界遺産に登録された「神宿る島」宗像・沖ノ島と関連遺産群が存在する都道府県である。以前は、わが国最大規模の炭田の存在もあり、鉄鋼・セメントなど素材産業で名をはせたが、炭田閉山後は、半導体産業のほか、自動車工業も盛んに行われている。また、近年では、複数の大学の研究機関の協力のもと、半導体を用いた自動車の電子化研究の拠点となるなど、シリコンアイランドにおける中心的な役割を果たしている。
- ④ 水陸交通の要所であり、“この地を制する者は天下を制す”として、度々戦乱の舞台となった都道府県である。現在は、2つの工業地帯のほぼ中間に存在しており、また、高速道路網・高速鉄道網が整備され、物流の拠点となっている。このため、家庭用電気機械工業のほか、電子・半導体産業や食品工業など、多くの工場が存在している。

問1 文中の下線部(a)について、この現象を何といいますか。次のア～エから1つ選んで、記号で答えなさい。

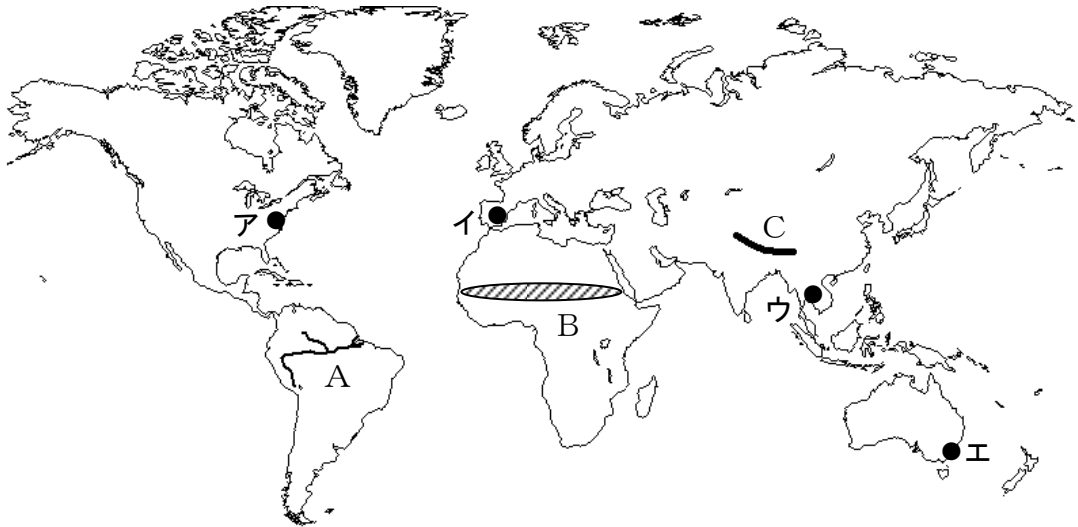
- ア エルニーニョ現象 イ フェーン現象
ウ ヒートアイランド現象 エ ラニーニャ現象

問2 右の雨温図は、[表]の(あ)～(え)のいずれか1つの県の県庁所在地のもので、この雨温図にあてはまるものを、[表]の(あ)～(え)から1つ選んで、記号で答えなさい。



2 世界の国々や地域の様子について、後の問いに答えなさい。

問1 次の地図について、後の問いに答えなさい。



(1) 地図中Aが示す河川名を答えなさい。

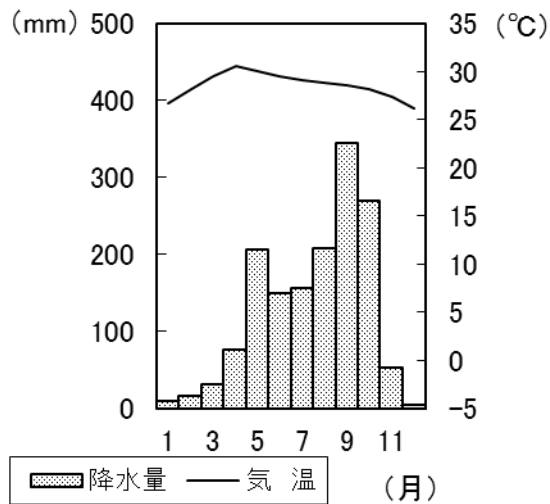
(2) 地図中Bの地域で発生している深刻な地球環境問題として正しいものを、次のア～エから1つ選んで、記号で答えなさい。

ア オゾン層の破壊 イ 熱帯林の伐採 ウ 酸性雨 エ 砂漠化

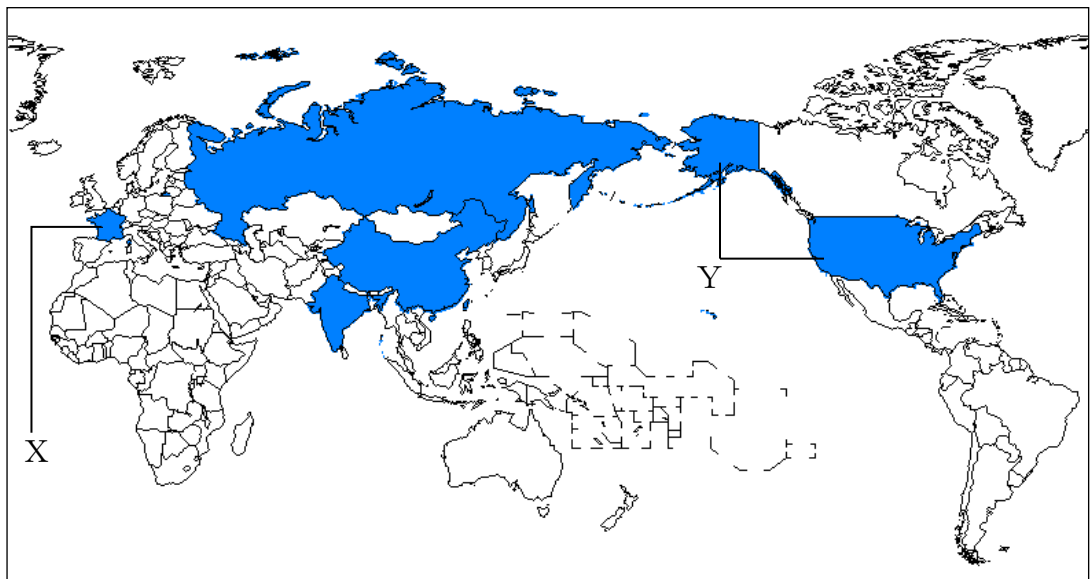
(3) 地図中Cの山脈の特徴として正しいものを、次のア～エから1つ選んで、記号で答えなさい。

- ア 環太平洋造山帯の一部で、形成された年代が新しい山脈である。
- イ 環太平洋造山帯の一部で、形成された年代が古い山脈である。
- ウ アルプス＝ヒマラヤ造山帯の一部で、形成された年代が新しい山脈である。
- エ アルプス＝ヒマラヤ造山帯の一部で、形成された年代が古い山脈である。

(4) 次の雨温図は、地図中ア～エのいずれか1つの都市のものです。この雨温図にあてはまるものを、地図中ア～エから1つ選んで、記号で答えなさい。



問2 次の地図について、後の問いに答えなさい。



- (1) この地図は、ある作物の生産量が多い5つの国を示しています。また、次の表は、この作物の輸出量が多い国とその割合(%)を示しています。この作物名を答えなさい。

国名	割合
アメリカ	22.1
フランス	13.7
オーストラリア	11.9
カナダ	11.0
ロシア	10.2
世界計	100.0

[地理統計要覧 2016年版(二宮書店)による]

- (2) 地図中Xの国では、この作物をどのような方法で栽培していますか。その特徴として正しいものを、次のア～エから1つ選んで、記号で答えなさい。

- ア 豚や牛などの家畜の飼育と組み合わせて、飼料作物とともに栽培されている。
- イ 夏の乾燥した気候を活かして、ぶどうやオリーブとともに栽培されている。
- ウ 冷涼な気候を活かして、山岳地を利用して栽培されている。
- エ 森林を焼き払って、その灰を肥料に用いて栽培されている。

- (3) 地図中Yの国で行われている農牧業の説明として誤っているものを、次のア～エから1つ選んで、記号で答えなさい。

- ア 地形や気候に適した農作物を集中的に栽培する農牧業が行われている。
- イ 農業技術の発展にともない、遺伝子を組み換えた作物の研究が行われている。
- ウ 農業人口の割合が多く、機械を使った大規模な農業が行われている。
- エ 牛にとらもろこしなどの穀物を与えて、飼育する牧畜が行われている。

問3 次の表中A～Cは、ある鉱産資源の産出量が多い国とその産出量の割合(%)を示しています。A～Cにあてはまる鉱産資源の組み合わせとして正しいものを、次のア～カから1つ選んで、記号で答えなさい。

A		B		C	
国名	割合	国名	割合	国名	割合
中国	56.6	中国	29.4	チリ	31.1
インド	8.7	オーストラリア	25.5	中国	9.5
アメリカ	6.9	ブラジル	16.6	ペルー	7.5
インドネシア	6.0	インド	6.5	アメリカ	7.4
オーストラリア	4.9	ロシア	4.1	コンゴ民主	5.6
世界計	100.0	世界計	100.0	世界計	100.0

[地理統計要覧 2017年版(二宮書店)による]

- | | | |
|---------|-------|-------|
| ア A－石炭 | B－銅鉱 | C－鉄鉱石 |
| イ A－石炭 | B－鉄鉱石 | C－銅鉱 |
| ウ A－銅鉱 | B－石炭 | C－鉄鉱石 |
| エ A－銅鉱 | B－鉄鉱石 | C－石炭 |
| オ A－鉄鉱石 | B－石炭 | C－銅鉱 |
| カ A－鉄鉱石 | B－銅鉱 | C－石炭 |

問4 次の文は、ある国の工業の様子を述べたものです。この文が示す国として正しいものを、次のア～カから1つ選んで、記号で答えなさい。

植民地時代より続いている繊維工業のほか、豊富な資源を活かした鉄鋼業が盛んである。近年では、先端技術産業が発達し、語学力や欧米との時差を利用したIT産業や電子工業が盛んである。現在では、BRICSの一つにも数えられ、世界有数の工業国へと成長している。

- | | | |
|------|--------|-----------|
| ア 韓国 | イ メキシコ | ウ ブラジル |
| エ 中国 | オ インド | カ オーストラリア |

問5 わが国が2月10日午前9時のとき、ロシア連邦の首都であるモスクワ（東経45度）は2月何日の午前もしくは午後何時ですか。答えなさい。

3 次のA～Hの文章は、日本の各時代の様子について述べたものです。各文を読んで、後の問いに答えなさい。

- A 縄文時代の末、中国や朝鮮半島から北九州へ渡来した人々が稲作を伝えました。①弥生時代には、本格的な農業が始まり、木の鋤や鋤で田を耕し、稲が実ると収穫して、(1) 倉庫に蓄える集落が増えてきました。
- B 女帝である(2) 天皇は、甥の②聖徳太子(厩戸皇子)を国の政治に参加させ、天皇を中心とする国家のしくみを整えようとししました。そのために、多くの留学生・留学僧を中国に派遣し、制度や③仏教を学ばせました。
- C 貴族たちは、中国の文化をふまえながらも、日本の風土や生活に合った独自の文化を生み出していきました。これを④国風文化といい、⑤撰関政治のころに最も栄えました。
- D ⑥鎌倉時代、執権北条泰時は、御家人の権利や武士の慣習をまとめた(3) を制定しました。これは律令とは別の武士独自の法で、公正な裁判を行うためのものであり、その後の武家政治の基準とされました。
- E ポルトガル人を乗せた倭寇の船が(4) に流れ着き、この島に鉄砲が伝えられました。⑦鉄砲は戦国大名に注目され、各地に広まり、堺や国友などでは刀鍛冶の職人によって製造されるようになりました。
- F 老中(5) が幕府の力を回復させるために、天保の改革を行いました。⑧商工業者が同業者でつくる組織を解散させて、商人の自由な取引を認め、物価の引き下げをはかりました。また、外交政策では異国船打払令を廃して、⑨薪水給与令を出しました。
- G ⑩明治時代、政府は欧米諸国と対等な地位を得るため、(6) を中心とする使節団を欧米に送りました。しかし、江戸幕府が結んだ不平等条約の改正はなかなか実現しませんでした。その後、日本が立憲制国家としての体制を整えると、⑪欧米諸国も日本との交渉に応じ、不平等条約は改正されていきました。
- H ⑫佐藤栄作内閣では、韓国との国交が回復しました。また、サンフランシスコ平和条約のもとでアメリカの占領下にあった小笠原諸島や沖縄が日本に返還されました。⑬次の内閣では、日中共同声明が発表され、中国との国交が正常化されました。

問1 (1) ~ (6) にあてはまる最も適当な語句や人物名をそれぞれ答えなさい。

問2 下線部①について、この頃の日本について記された最も古い中国の歴史書として正しいものを、次のア～エから1つ選んで、記号で答えなさい。

ア 『宋書』倭国伝

イ 『後漢書』東夷伝

ウ 『魏志』倭人伝

エ 『漢書』地理志

問3 下線部②について、この人物が行った政治の内容として正しいものを、次のア～エから1つ選んで、記号で答えなさい。

ア 冠位十二階の制度を定めて、全国の人びとを良と賤せんの身分に分け、性別や年齢を戸籍に登録していきました。

イ 中国を統一した隋に小野妹子らを遣隋使として派遣し、対等の立場で国交を結ぼうとしました。

ウ 十七条の憲法を定めて、都には二官八省の役所をおき、各地には国司を派遣し、全国をおさめるという国の方針を示しました。

エ 仏教を大切に考え、これに反対する蘇我氏を、物部氏と協力し滅ぼしました。

問4 下線部③について、仏教を日本に伝えた国として正しいものを、次のア～エから1つ選んで、記号で答えなさい。

ア 高句麗

イ 新羅

ウ 百済

エ 渤海

問5 下線部④について、紀貫之が編集した作品として正しいものを、次のア～エから1つ選んで、記号で答えなさい。

ア 『源氏物語』

イ 『万葉集』

ウ 『徒然草』

エ 『古今和歌集』

問6 下線部⑤について、藤原頼通によって宇治に建立された阿弥陀堂として正しいものを、次のア～エから1つ選んで、記号で答えなさい。

ア 中尊寺金色堂 イ 慈照寺東求堂 ウ 富貴寺大堂 エ 平等院鳳凰堂

問7 下線部⑥について、鎌倉時代の農業や商業の様子として正しいものを、次のア～エから1つ選んで、記号で答えなさい。

ア 庶民の衣服に使う木綿や、染料となる藍あゐや紅花べにばななどの商品作物の栽培が始まりました。

イ 牛馬を使った耕作や、草や灰などの肥料を使い始め、裏作として麦をつくる二毛作が広まりました。

ウ 寺社の門前や交通の要地に定期市が開かれ、その取引には明銭が使用されました。

エ 交通の盛んなところでは、物資を運ぶ土倉や問丸とよばれる運送業者が増えました。

問8 下線部⑦について、織田信長が鉄砲を有効に使い、武田勝頼を破った戦いとして正しいものを、次のア～エから1つ選んで、記号で答えなさい。

ア 長篠の戦い イ 山崎の戦い ウ 桶狭間の戦い エ 関ヶ原の戦い

問9 Eの文について、この時代に起こった世界の出来事として誤っているものを、次のア～エから1つ選んで、記号で答えなさい。

ア カルバンがスイスのジュネーブで宗教改革を始めました。

イ マゼラン一行が世界一周に成功しました。

ウ リンカンが奴隷解放宣言を出しました。

エ バスコ＝ダ＝ガマがインドのカリカットに到着しました。

問10 下線部⑧について、この同業者の組織を何といいますか。答えなさい。

問11 下線部⑨について、この法令を出すきっかけとなった1840年に清とイギリスの間で起こった戦争を何といいますか。答えなさい。

問12 下線部⑩について、この時代に作られた作品名と作者名の組み合わせとして正しいものを、次のア～エから1つ選んで、記号で答えなさい。

ア 『舞姫』－森鷗外

イ 『坊ちゃん』－樋口一葉

ウ 『みだれ髪』－夏目漱石

エ 『たけくらべ』－与謝野晶子

問13 下線部⑪について、この頃の国内の様子として正しいものを、次のア～エから1つ選んで、記号で答えなさい。

ア ラジオ放送が始まり、多くの人々が同時に同じ情報を得ることができるようになりました。

イ 衣料品や食料品の統制が始まり、砂糖や米が配給制になりました。

ウ 義務教育が4年制から6年制となり、就学率は9割を超えました。

エ 都心のターミナルにはデパートや劇場などが造られ、大勢の人が集まりました。

問14 下線部⑫について、この時に締結された条約名を何といいますか。答えなさい。

問15 下線部⑬について、この時の内閣総理大臣として正しいものを、次のア～エから1つ選んで、記号で答えなさい。

ア 田中角栄

イ 池田勇人

ウ 吉田茂

エ 竹下登

4

次の文章は、昨年のある新聞の社説です。文を読んで、後の問いに答えなさい。

通常①国会が召集された。2017年度当初予算案審議のほか、天皇陛下の退位のご意向を踏まえた法整備や、テロ対策に伴う「共謀罪」の法制化の議論などが焦点となる。安倍晋三首相が政権に復帰して5年目を迎え、これまでの運営が総合的に点検される場となる。同時に、米トランプ政権の誕生や英国の②欧州連合離脱方針など、③国際環境が大きく変わる中での国会だ。変化に機敏に対応した政策論争を与野党に求めたい。首相の施政方針演説は、トランプ氏を強く意識した内容となった。日米同盟が外交、安全保障の基軸であることは「不変の原則」だと冒頭部から強調し、近く行う見通しの首脳会談について「同盟の絆をさらに強化する」と抱負を述べた。トランプ氏が離脱方針を示す環太平洋パートナーシップ協定についても「今後の経済連携の礎だ」と指摘した。新政権の動向が安倍④内閣にとっても最大の不確定要因になるという認識の表れだろう。確かに国際環境の変化は、外交だけでなく、首相が重視する経済政策などにも大きく影響する。首相は演説で「成長と分配」「⑤地方創生」「1億総活躍」「⑥働き方改革」などのテーマの実績と継続への意欲を説き、政権4年を節目と意識していることをうかがわせた。だが、トランプ政権の動向次第では為替水準など経済環境が変動し、雇用などの土台が揺れ動きかねない。政権4年の点検を踏まえた戦略の練り直しも迫られつつある。首相は「名目⑦国内総生産は（4年で）44兆円増加」と強調したが、実質成長率は公約した水準には遠い。今国会に提出された16年度第3次補正予算案の財源は赤字国債による借金でまかなわれた。2度にわたる消費増税の先送りで⑧税と社会保障の一体改革は揺らいでいる。年金、医療制度などの再構築に向けた協議こそ野党に提起すべきだった。また、首相は⑨日本国憲法施行70年を踏まえた「新しい国づくり」を訴え、改憲案策定に向け国会で具体的な議論を深めるよう呼びかけた。だが、集約を急ぐような状況ではあるまい。政策全般で与野党の建設的な議論がこれまでも増して求められる状況である。にもかかわらず、首相は演説で「批判に明け暮れたり、国会でプラカードを掲げても何も生まれない」などと野党を挑発した。国会の役割を本当に重視しているのか、疑問符がつく。首相が野党の意見に耳を貸さず、野党は批判に終始する。変化に対応していくためにも、国会はこんな悪弊から今度こそ脱却すべきだ。

問1 下線部①について、国会の仕事の説明として正しいものを、次のア～エから1つ選んで、記号で答えなさい。

- ア 外国と条約を締結する。
- イ 法律が憲法に違反していないかを判断する。
- ウ 最高裁判所長官を指名する。
- エ 国民に対して憲法改正案を発議する。

問2 下線部②について、欧州連合の多くの加盟国で用いられている共通通貨として正しいものを、次のア～エから1つ選んで、記号で答えなさい。

- ア DOLLAR
- イ EURO
- ウ YEN
- エ POUND

問3 下線部③について、国際紛争を調査し解決方法を勧告するなど、世界の平和と安全の維持に責任を負う国際連合の機関を何といいますか。漢字7字で答えなさい。

問4 下線部④について、内閣は行政権を担っており、国の権力は立法・行政・司法の三権に分けられています。このような権力分立論を『法の精神』で唱えたフランスの思想家の名を答えなさい。

問5 下線部⑤について、中央集権に対して、各地方の特性に応じた政治を行うため、国が地方の問題にあまりかかわらず、できるだけ地方の判断にゆだねるしくみを何といいますか。答えなさい。

問6 下線部⑥について、政府は失業した人たちの生活の保障や職場の紹介など働く権利を守るために努力をしています。このような、生活を最終的に保障する社会のしくみとして正しいものを、次のア～エから1つ選んで、記号で答えなさい。

ア セーフティネット

イ ワーク・ライフ・バランス

ウ ワーキングプア

エ リストラクチャリング

問7 下線部⑦について、国内総生産の略称をアルファベットで答えなさい。

問8 下線部⑧について、税を負担する者と税を納める者が異なっている、消費税などの税を何といいますか。答えなさい。

問9 下線部⑨について、日本国憲法ではさまざまな人権が保障されています。その中でも、20世紀以降に保障されてきた社会権の説明として正しいものを、次のア～エから1つ選んで、記号で答えなさい。

ア 個人として尊重され平等なあつかいを受ける権利

イ 国などへ法律制定などの希望を述べる権利

ウ 人間らしい生活を国に対して求める権利

エ 国家から不当な干渉を受けずに生活する権利

問10 この社説の表題としてあてはまるものを、次のア～エから1つ選んで、記号で答えなさい。

ア 「内閣支持率上昇、反転攻勢の一步とできるか」

イ 「資本主義の未来、不信をぬぐうためには」

ウ 「国会開幕、変化に耐えうる議論を」

エ 「財政悪化、国会は危機感に乏しい」