

平成31年度

上宮太子高等学校 入学考査問題

# 社 会

(50分)

〔注意〕 次の(1)～(5)をよく読むこと。

## 注 意 事 項

- (1) この問題冊子は、「開始」の合図があるまで開いてはいけません。
- (2) 問題は、**1**から**4**まであります。印刷不鮮明、ページの落丁・乱丁等に気付いた場合は、挙手して監督者に知らせなさい。
- (3) 解答用紙は、別に1枚あります。解答はすべて解答用紙に記入しなさい。
- (4) 受験番号・名前は、問題冊子と解答用紙の両方に記入しなさい。
- (5) 「終了」の合図で、筆記用具を置きなさい。

受 験 番 号				名 前

- 1 次の表は、10の都道府県の地理的な資料をまとめたものです。[表]の(あ)～(え)にあてはまる都道府県を[地図]のA～Hからそれぞれ選びなさい。そして、その都道府県の様子を[説明文]の①～④からそれぞれ選んで、記号で答えなさい。また、後の問いに答えなさい。

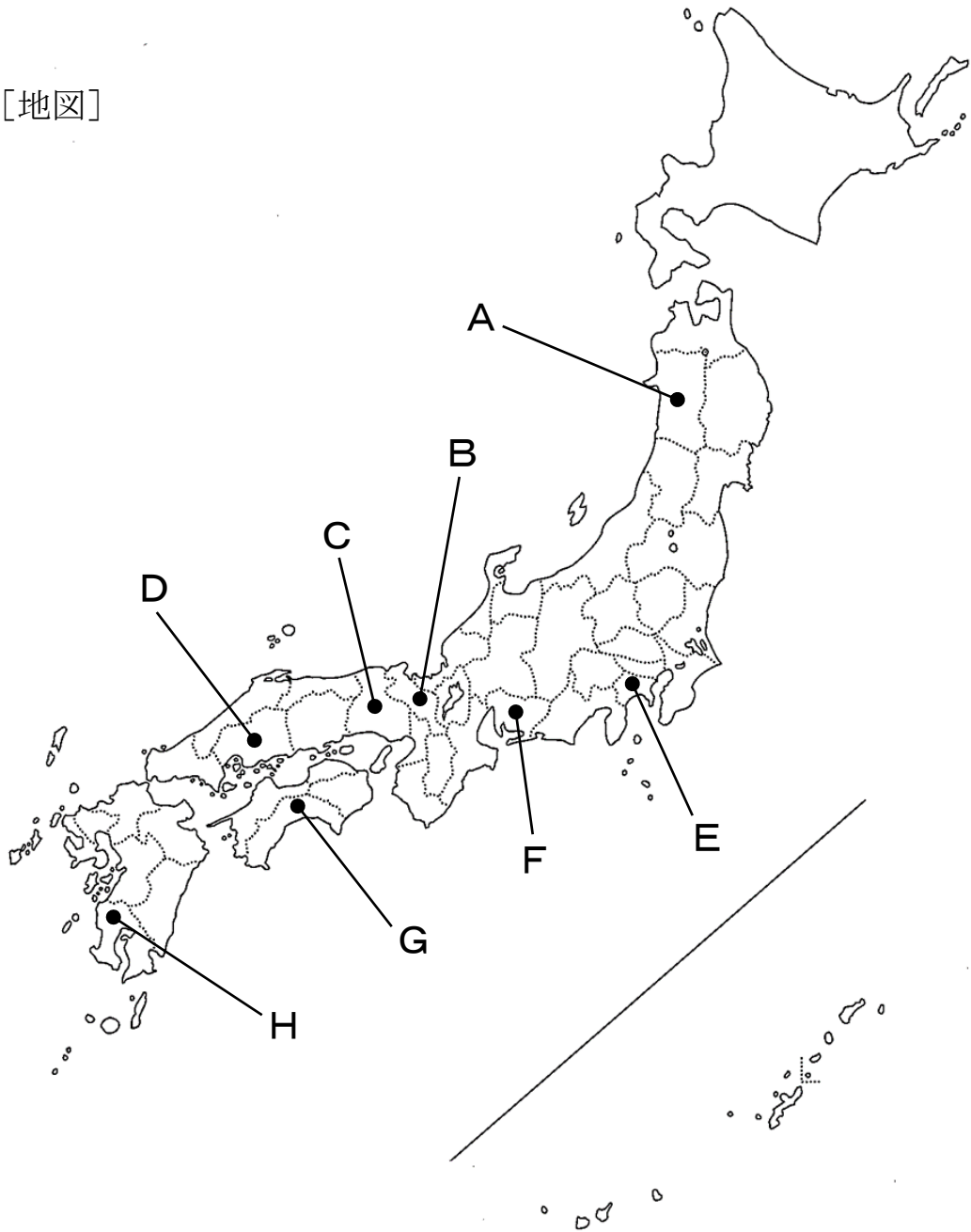
[表]

	人口 (千人)	小麦 収穫量 (トン)	ばれいしょ 収穫量 (トン)	たまねぎ 収穫量 (トン)	茶 収穫量 (トン)	日本なし 収穫量 (トン)	豚 飼養頭数 (頭)	製造品 出荷額 (億円)
北海道	5352	524300	1715000	843700	—	—	630900	67435
(あ)	7507	23700	3390	31900	914	6520	328400	439899
(い)	1637	40	70800	3290	24600	—	1327000	19342
茨城	2905	13900	47500	5020	—	24800	546300	114481
千葉	6236	2160	28700	5610	—	32700	663900	139232
(う)	9145	96	7410	4810	—	4930	71900	178044
静岡	3688	1460	13500	11800	30700	—	110800	161289
大阪	8833	x	850	4060	—	—	6290	167336
(え)	5520	3440	3550	87000	—	1330	21800	149600
群馬	1967	23700	7630	11600	—	5030	629100	84204

xは秘匿。

[データでみる県勢 2018年版(矢野恒太記念会)による]

[地図]



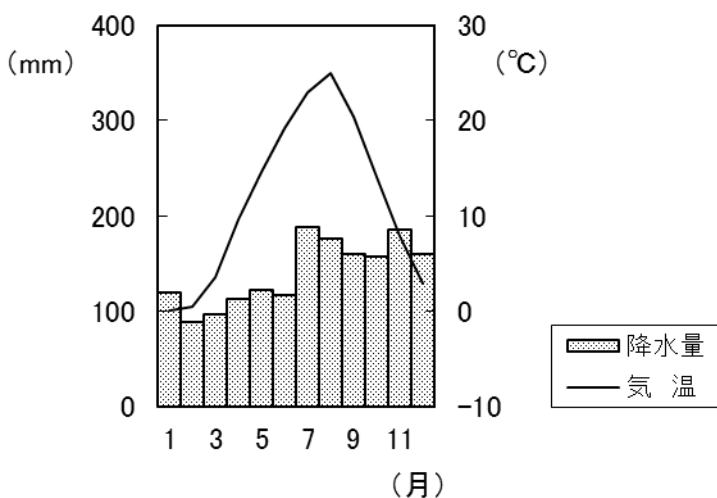
[説明文]

- ① 農業の比重が低く、耕地面積も少ない。臨海部には三大工業地帯の1つが発展しており、大工場が集中している。また、全都道府県で唯一、3つの政令指定都市を抱えている。その1つの都市には、日本有数の国際貿易港があり輸出額は第3位である。近年、都心機能をもつ再開発事業である「みなとみらい21計画」が進められている。

- ② 日本の標準時子午線である東経 135 度の経線が通過している明石市がある。都道府県庁所在地と瀬戸内海最大の島の間には、全長が 3911mの世界最長のつり橋である明石海峡大橋がある。また、上質の米と水に恵まれているため、古くから酒づくりが盛んで、清酒の生産量は全国第 1 位である。
- ③ 三大工業地帯の 1 つがあり、重化学工業が発達している。用水が引かれた渥美半島や知多半島では、野菜・電照ぎくなどの施設園芸農業が盛んに行われている。2005 年に開港した国際空港は、通称「セントレア」とよばれ、国内線・国際線を合わせて多くの便が就航している。
- ④ 火山が多く①軽石を含む火山堆積物でできた台地は、水を通しやすいためすぐに乾燥し、土地はやせ、農作物が育ちにくく「水のない不毛の地」とよばれた。1967 年に高隈ダムが完成し、本格的な灌漑事業かんがいが始まってからは、現在では全国でも有数の農産物の生産地となっている。また、この都道府県にある屋久島の縄文すきは世界自然遺産に登録されている。

問 1 文中の下線部①について、この台地を何といいますか。答えなさい。

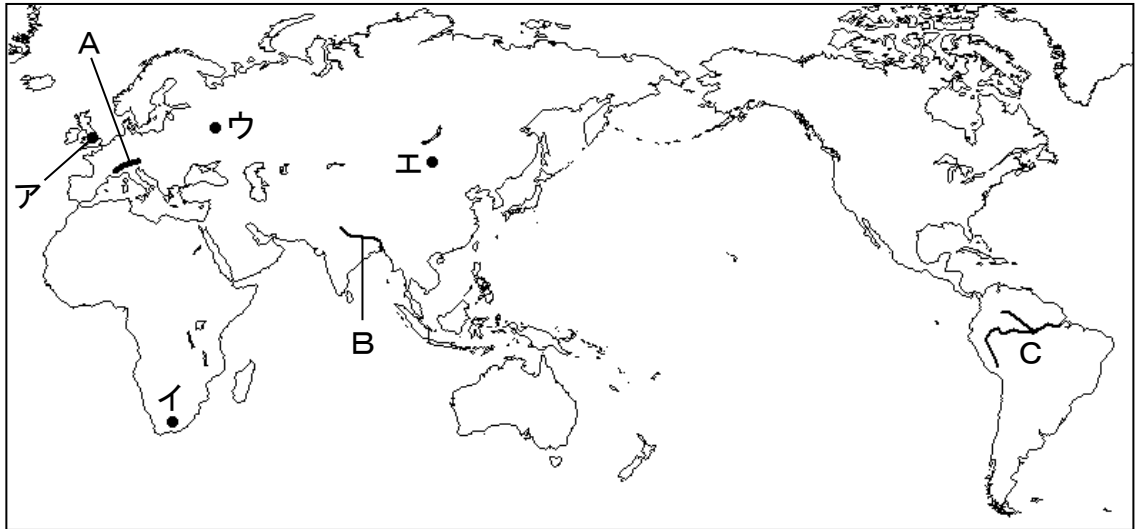
問 2 次の雨温図は、[地図]の A～H のいずれか 1 つの都道府県の都道府県庁所在地のもので、この雨温図にあてはまるものを、[地図]の A～H から 1 つ選んで、記号で答えなさい。



2

世界の国々や地域の様子について、後の問いに答えなさい。

問1 次の地図について、後の問いに答えなさい。



(1) 地図中Aが示す山脈名を答えなさい。

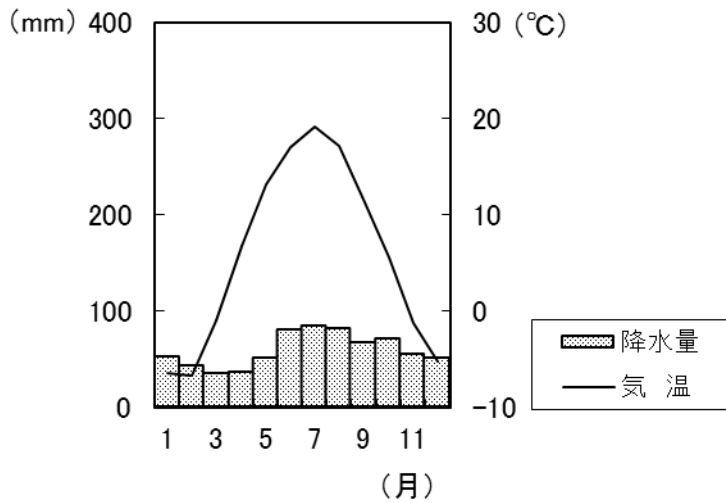
(2) 地図中Bが示す河川の流域では、ある宗教が広く信仰されています。次の文は、その宗教について説明したものです。この文で説明されている宗教名を答えなさい。

この河川は「聖なる川」とされ、身を清める<sup>もくよく</sup>沐浴が信者の中で広く行われている。牛は神の使いとされ、一般的に牛肉を食べることはない。また、教えに基づいた身分制度による差別がいまだに残されており、社会問題の1つとなっている。

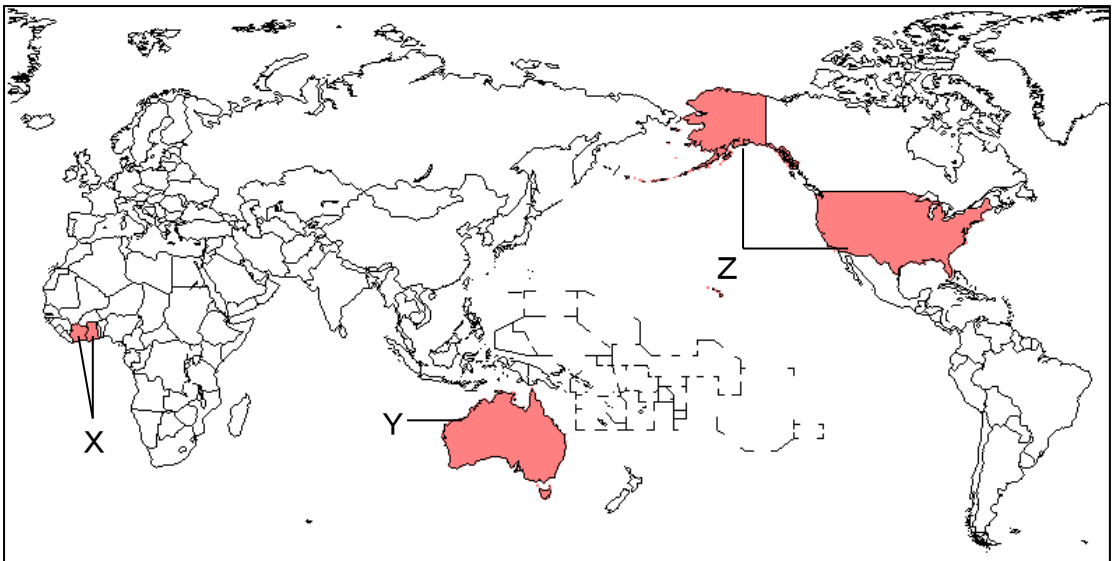
(3) 地図中Cが示す河川の流域では、深刻な地球環境問題が発生しています。この地球環境問題として正しいものを、次のア～エから1つ選んで、記号で答えなさい。

ア 砂漠化      イ 熱帯林の減少      ウ オゾン層の破壊      エ 酸性雨

(4) 次の雨温図は、地図中ア～エのいずれか1つの都市のもので、この雨温図にあてはまる都市を、地図中ア～エから1つ選んで、記号で答えなさい。



問2 次の地図について、後の問いに答えなさい。



(1) 地図中Xが示す国々では、ある作物の生産量が世界の約50%を占めています。この作物として正しいものを、次のア～エから1つ選んで、記号で答えなさい。

- ア オリーブ      イ バナナ      ウ コーヒー豆      エ カカオ豆

(2) 地図中Yが示す国の説明として誤っているものを、次のア～エから1つ選んで、記号で答えなさい。

ア かつてはイギリスの植民地であったため、アジアからの移民を制限する白豪政策が行われている。

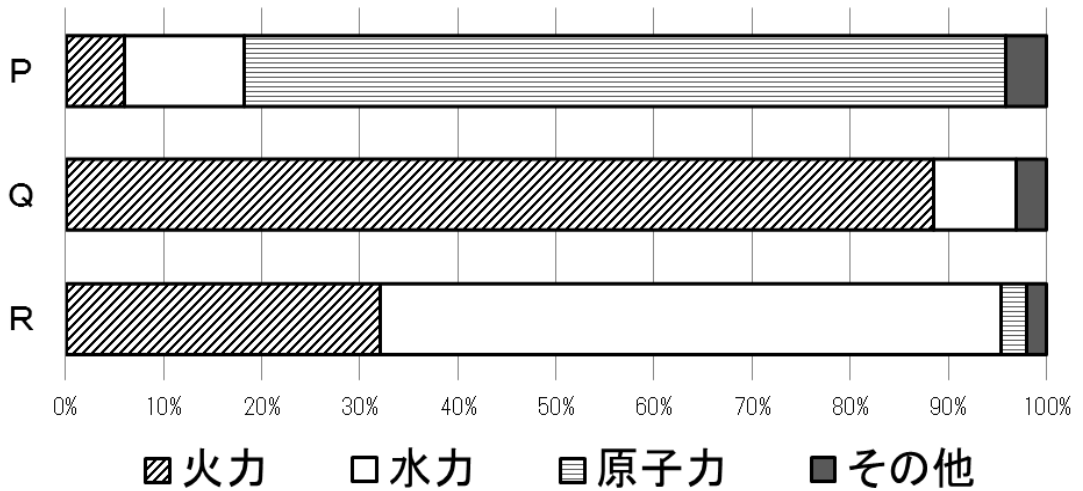
イ アボリジニとよばれる先住民は、政府による保護政策の効果もあり、人口は少ないものの先住民としての自覚が高まってきている。

ウ 降水量が比較的多い東部では酪農が、降水量の少ない内陸部では羊や牛の放牧が盛んに行われている。

エ グレートバリアリーフやウルルなど多くの自然環境にめぐまれ、海外から多くの観光客が訪れている。

(3) 地図中Zが示す国では、メキシコやカリブ海の国々から、スペイン語を話す移民が増加しています。この移民を何といいますか。答えなさい。

問3 次のグラフは、日本・フランス・ブラジルのいずれかの発電電源の割合（2014年）について示したものです。P～Rにあてはまる国の組み合わせとして正しいものを、次のア～カから1つ選んで、記号で答えなさい。



[地理統計要覧 2018年版 (二宮書店) による]

- |   |        |        |        |
|---|--------|--------|--------|
| ア | P－日本   | Q－フランス | R－ブラジル |
| イ | P－日本   | Q－ブラジル | R－フランス |
| ウ | P－フランス | Q－日本   | R－ブラジル |
| エ | P－フランス | Q－ブラジル | R－日本   |
| オ | P－ブラジル | Q－日本   | R－フランス |
| カ | P－ブラジル | Q－フランス | R－日本   |



問4 次の文は、ある国の工業について述べたものです。この文が示す国として正しいものを、次のア～カから1つ選んで、記号で答えなさい。

かつては国営企業を中心とした計画的な工業が行われていた。しかし、1980年代後半より国の体制が大きく変化し、豊富な資源を背景に、2000年代以降に著しい経済成長を遂げた。天然ガスや石油の輸出、機械・航空機などの生産が盛んに行われ、現在ではBRICSの一翼を担う工業国である。

- |   |     |   |     |   |          |
|---|-----|---|-----|---|----------|
| ア | ドイツ | イ | 中国  | ウ | ブラジル     |
| エ | インド | オ | ロシア | カ | 南アフリカ共和国 |

問5 わが国が2月9日午前11時のとき、アメリカ合衆国ハワイ州の州都であるホノルル（西経150度）は2月何日の午前もしくは午後何時ですか。答えなさい。

3

次のA～Iの歴史に関する各文を読んで、後の問いに答えなさい。

- A エジプトでは、毎年夏にナイル川の氾濫で、養分の多い土地が残りました。それによって農耕が発達し、小さな国々が生まれました。やがて、強力な王によって国々は統一され、王は神のように敬われました。王の墓として造られた巨大なピラミッドは、その権力の強さを示しています。
- B ①聖徳太子の死後、蘇我氏がいっそう力を強め権力を独占しました。( 1 )皇子は中臣鎌足らと協力し、蘇我氏を倒して政治改革に着手しました。この頃、初めての元号である「大化」が使われたため、この改革を「大化の改新」といいます。
- C 後三条天皇は、荘園の管理を強めるなどの政治改革を行いました。その後即位した( 2 )天皇は、堀河天皇に位をゆずって上皇となり、その後も、摂政や関白の力をおさえて初めて院政を始めました。
- D アラビア半島で生まれた( 3 )は、ユダヤ教・キリスト教を基に、唯一の神アッラーのお告げを受けたとして、イスラム教の開祖になりました。彼は神に絶対的に従うことや、神の像を拜んではならないことを説きました。この宗教の聖典『コーラン』は、信者の生活や政治、経済活動を定める法としての役割も果たしました。
- E ②源氏の将軍が3代で途絶えると、後鳥羽上皇は幕府を倒そうとして兵をあげました。しかし、幕府は大軍を送ってこれを破り、後鳥羽上皇を隠岐に流し、京都に( 4 )を置いて朝廷を監視しました。
- F 教皇やカトリック教会は、十字軍の失敗により権威が衰え、資金不足に陥りました。そこで教皇は免罪符を販売し、大聖堂修築の資金を集めました。するとドイツの( 5 )は、教皇やカトリック教会の権威を否定し、「聖書だけが信仰のよりどころである」と説いて宗教改革を始めました。
- G 5代将軍徳川綱吉は儒学を学ぶことをすすめ、中でも身分秩序を重視する朱子学が広く学ばれました。また、人々に慈悲の心を持たせるため、動物愛護政策である( 6 )を出しました。さらに幕府の財政が苦しくなると、貨幣の質を落として幕府の収入を増やそうとしました。

H 加藤高明内閣のもとで普通選挙法が成立し、満 25 歳以上のすべての男子に選挙権が与えられました。一方で天皇中心の国のあり方を変革したり私有財産制度を否定したりする運動を取り締まるため、同じ年に（ 7 ）法を制定しました。これにより、社会主義運動はおさえられました。

I （ 8 ）内閣は、③ソ連との戦争状態の終結などを宣言し、国交が回復しました。この結果、シベリア抑留者全員の帰還と日本の国際連合への加盟が実現しました。こうして、日本は国際社会に復帰することになりました。

問 1 （ 1 ）～（ 8 ）にあてはまる最も適切な語句や人物名をそれぞれ答えなさい。

問 2 A の文について、エジプト文明の説明として正しいものを、次のア～エから 1 つ選んで、記号で答えなさい。

ア 粘土板に刻まれた<sup>くまび</sup>楔形文字や、60 進法、1 週間を 7 日とすることが発明されました。

イ 計画的に建設されたモヘンジョ＝ダロなどの都市では、上下の水道や公衆浴場などの公共施設が整っていました。

ウ 太陽の動きを基準にして 1 年を 365 日として 12 か月に分ける太陽暦や、象形文字も発明されました。

エ 王は占いによって政治を行い、その占いには甲骨文字が使用されました。

問 3 A の文について、この頃の日本の様子として誤っているものを、次のア～エから 1 つ選んで、記号で答えなさい。

ア 地面を掘り下げて床とし、屋根をかけた竪穴住居が造られました。

イ 食物が豊かに実ることなどを祈るために、土偶が作られました。

ウ 氷期の日本列島に、ナウマン象などの大型動物が大量に移動しました。

エ 黒褐色をした厚手で縄目文様の土器が作られました。

問4 下線部①について、聖徳太子が行った政治の説明として正しいものを、次のア～エからすべて選んで、記号で答えなさい。

- ア 聖徳太子は、女性の推古天皇が即位すると摂政になり、蘇我蝦夷・入鹿と協力しながら、天皇を中心とする政治制度を整えようとしてしました。
- イ 聖徳太子は、血縁関係を重視し、出身の家柄によって役人に取り立てる冠位十二階の制度を整えました。
- ウ 聖徳太子は、仏教や儒学の考え方を取り入れた十七条の憲法を定め、天皇の命令に従うべきことなど、役人の心構えを示しました。
- エ 聖徳太子は、隋の進んだ制度や文化を取り入れようと、小野妹子などの遣隋使を送りました。

問5 Cの文について、この頃に平泉に建てられた建造物として正しいものを、次のア～エから1つ選んで、記号で答えなさい。

- ア 日光東照宮      イ 中尊寺金色堂      ウ 巖島神社      エ 鹿苑寺金閣

問6 Dの文について、イスラム教ができた7世紀の日本の出来事として正しいものを、次のア～エから1つ選んで、記号で答えなさい。

- ア 白村江の戦いで、日本の軍は唐・新羅の連合軍に敗れました。
- イ 空海は唐で密教を学び、帰国後に真言宗を開きました。
- ウ 邪馬台国の卑弥呼は魏に使いを送り、金印を授かりました。
- エ 菅原道真の建議で、遣唐使が停止されました。

問7 下線部②について、この反乱を何といいますか。答えなさい。

問8 Eの文について、この頃、貴族や武士を中心に広まった浄土宗を開いた人物名を答えなさい。

問9 Fの文について、この頃の日本の文化の説明として正しいものを、次のア～エから1つ選んで、記号で答えなさい。

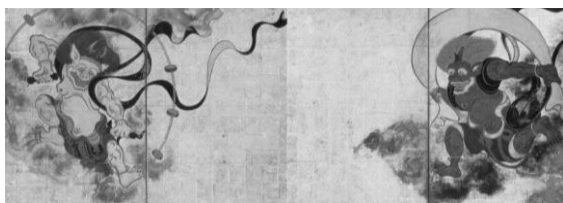
- ア 『浦島太郎』や『物くさ太郎』など、お伽草子とよばれる絵本がつくられました。
- イ 琵琶法師によって、『平家物語』が多くの人々に広められました。
- ウ 漢字を書きくずして、より日本語の発音を表現しやすくした仮名文字が作られました。
- エ 洋書関連の輸入禁止を緩めたことで、西洋の学問を研究する蘭学が発達しました。

問10 Gの文について、この頃に蝦夷地で松前藩と戦った首長として正しいものを、次のア～エから1つ選んで、記号で答えなさい。

- ア コシャマイン    イ シャクシャイン    ウ ラクスマン    エ レザノフ

問11 Gの文について、この頃に尾形光琳が描いた作品として正しいものを、次のア～エから1つ選んで、記号で答えなさい。


ア



イ



ウ



エ



問12 Hの文について、この頃の日本の様子として誤っているものを、次のア～エから1つ選んで、記号で答えなさい。

- ア 平塚らいてうが市川房枝らと新婦人協会を設立し、女性の政治活動の自由などを要求しました。
- イ 友愛会は労働組合の全国組織へと発展し、日本で最初のメーデーを主催しました。
- ウ 東京・大阪・名古屋でラジオ放送が開始され、新聞と並ぶ情報源になりました。
- エ 政府が地主の農地を買い上げ、小作人に安く売り渡す農地改革が行われました。

問13 下線部③について、この宣言を何といいますか。答えなさい。

4 次の文章は、昨年のある新聞の社説です。文を読んで、後の問いに答えなさい。

5年半を超えた政権運営を総括し、次の総裁任期中で優先的に取り組む政策を安倍首相は明らかにする必要がある。首相が9月の自民党総裁選での連続3選に意欲を示した。大きな失政はなく、一定の支持率を維持している。政権継続への姿勢は理解できる。総裁選は、既に出馬を表明した石破茂・元幹事長との一騎打ちとなる公算が大きい。首相は講演で、①憲法改正について「いつまでも議論だけを続けるわけにはいかない」と述べ、次期②国会に自民党の改憲案を提示する意向を表明した。憲法改正を総裁選の争点とする考えも示した。自民党は③9条改正など4項目の改憲の考え方をまとめているが、野党の反発で④衆参両院の憲法審査会では議論されていない。総裁選を通じ、改憲の機運を高めようとするのが首相の狙いだ。国民の理解を得ながら、どのような道筋で改憲論議を進めるのか。首相は、来夏の参院選や⑤外交日程などを考慮しながら、ちみつな戦略を立てねばなるまい。自衛隊を憲法に明記し、⑥違憲論をふっしょくする意義は大きい。大規模災害時に政府が国民の生命や財産を保護できるようにする緊急事態条項の創設は大切な措置だ。総裁選で、改憲の具体的な条文案を巡って議論を戦わせることが重要だ。それが国民の理解を深めることになる。自民党は少数意見にも謙虚に耳を傾けながら、より多くの野党の合意を得る努力が欠かせない。総裁選では内政、外交の建設的な論戦も望まれる。保護主義的な政策を進めるトランプ米政権は、⑦貿易協議で対日圧力を強めている。日本の通商政策は正念場にある。⑧デフレ脱却は実現していない。首相はアベノミクスを点検し、持続的な成長に資する方策を打ち出す必要があるのではないかと。首相は拉致問題の解決に向け、日朝首脳による直接交渉に前向きな考えを示している。非核化に関する米朝協議を見極めながら、慎重に対話を進めねばならない。総裁選では首相の政治姿勢も問われよう。森友、加計両学園の問題を巡る国民の視線は厳しい。首相は講演で「⑨行政を巡る様々な問題で国民の信頼を損なったことをおわびしたい」と述べた。疑惑のふっしょくに時間がかかるのは、首相や周辺の軽率な言動にも原因がある。長期政権のおごりを排し、真摯に政策遂行にまい進する姿勢を示すことが大切だ。

問1 下線部①について、国会より発議された日本国憲法の改正案を、主権者である国民が最終判断する制度を何といいますか。答えなさい。

問2 下線部②について、次の文は「国会の審議」に関して述べたものです。文中（ X ）に共通してあてはまる語句を答えなさい。

「国会の審議は、衆議院と参議院のそれぞれにおいて、院の議員全体が参加する本会議と、議員が分かれて参加する（ X ）で行われます。議案は、まず（ X ）で審議され、その結果は本会議に報告され、討論ののち採決されます。」

問3 下線部③について、日本国憲法第9条の条文内容として含まれていないものを、次のア～エから1つ選んで、記号で答えなさい。

- |          |          |
|----------|----------|
| ア 交戦権の否認 | イ 非核三原則  |
| ウ 戦争放棄   | エ 戦力の不保持 |

問4 下線部④について、両院の意見が一致しない場合に「衆議院の優越」が認められています。「衆議院の優越」の内容として正しいものを、次のア～エから1つ選んで、記号で答えなさい。

- ア 内閣不信任の決議は衆議院だけができる。
- イ 法案で両院が異なる議決の場合、衆議院の議決が国会の議決となる。
- ウ 憲法改正案で両院が異なる議決の場合、衆議院の再可決で国会の議決となる。
- エ 内閣総理大臣の指名は、必ず衆議院で先に行われる。

問5 下線部⑤について、国家間の外交のなかで、書面の形式により締結された拘束力を有する国際的合意の総称を何といいますか。答えなさい。



問6 下線部⑥について、最高裁判所の違憲判決の例として正しいものを、次のア～エから1つ選んで、記号で答えなさい。

- ア 議員定数の不均衡による一票の格差は、憲法が定める表現の自由に違反する。
- イ 認知した子に日本国籍を認めない規定は、憲法が定める信教の自由に違反する。
- ウ 薬局間の設置距離制限は、憲法が定める職業選択の自由に違反する。
- エ 在外邦人の参政権行使の制限は、憲法が定める思想・良心の自由に違反する。

問7 下線部⑦について、各国の利害を調整しながら自由な国際貿易を守る機関として世界貿易機関があります。この世界貿易機関の略称をアルファベットで答えなさい。

問8 下線部⑧について、デフレーションの説明として正しいものを、次のア～エから1つ選んで、記号で答えなさい。

- ア 物価が持続的に下落すること
- イ 物価が持続的に上昇すること
- ウ 地価が一時的に下落すること
- エ 地価が一時的に上昇すること

問9 下線部⑨について、フランスの思想家であるモンテスキューは、国の権力を行政権などの三権に分ける権力分立論を説きました。三権のなかで、裁判所が担っている権力を何とといいますか。答えなさい。

問10 この社説の表題としてあてはまるものを、次のア～エから1つ選んで、記号で答えなさい。

- ア 「首相3選に意欲 経済と環境、持続可能な調和示せ」
- イ 「首相3選に意欲 環境と外交、一貫した方策示せ」
- ウ 「首相3選に意欲 五輪と文化、未来に向けた構想示せ」
- エ 「首相3選に意欲 経済と外交、改憲の戦略示せ」