

令和2年度

上宮太子高等学校 入学試験問題

社 会

(50分)

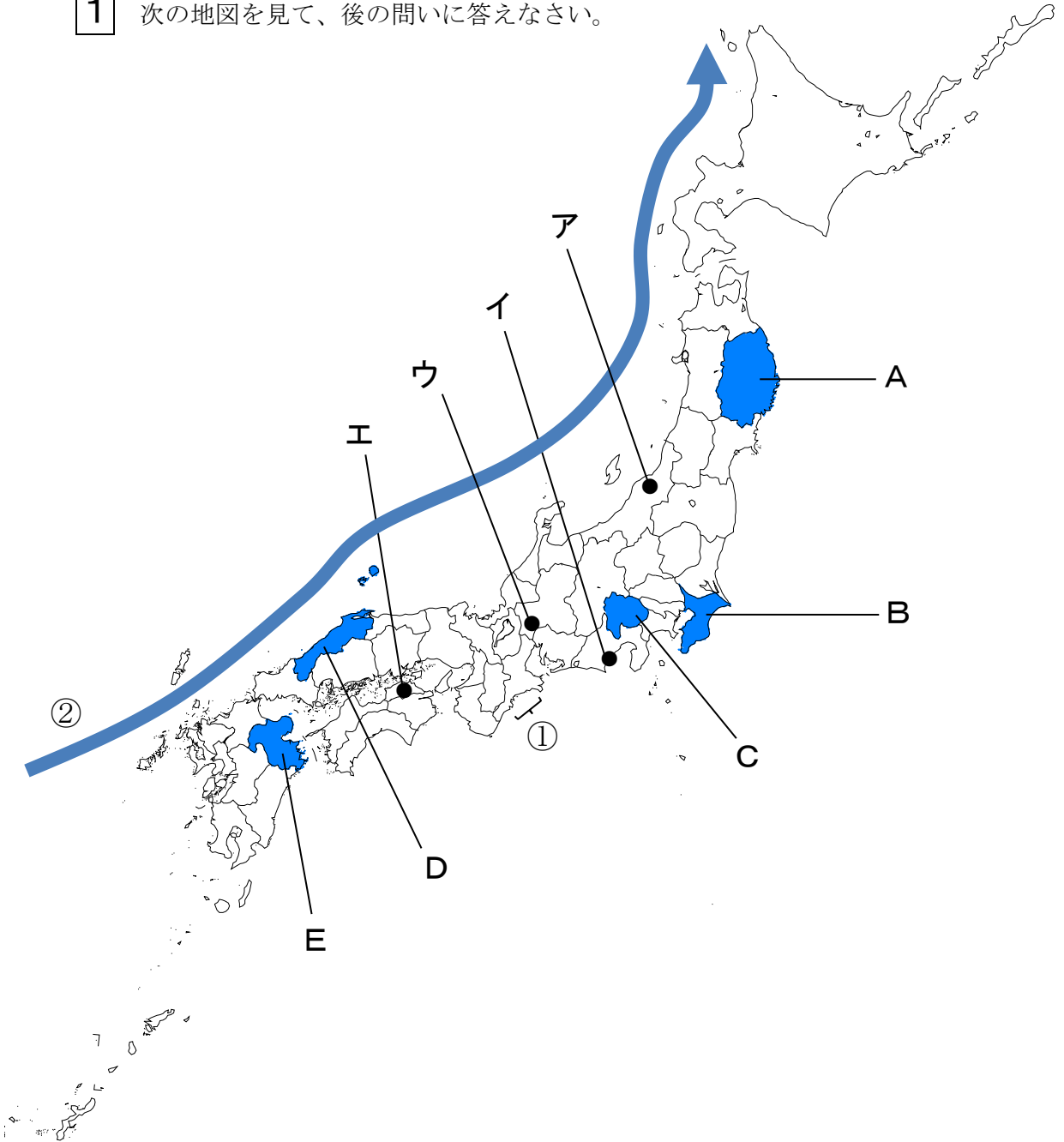
〔注意〕 次の(1)～(5)をよく読むこと。

注 意 事 項

- (1) この問題冊子は、「開始」の合図があるまで開いてはいけません。
- (2) 問題は、**1**から**4**まであります。印刷不鮮明、ページの落丁・乱丁等に気付いた場合は、挙手して監督者に知らせなさい。
- (3) 解答用紙は、別に1枚あります。解答はすべて解答用紙に記入しなさい。
- (4) 受験番号・名前は、問題冊子と解答用紙の両方に記入しなさい。
- (5) 「終了」の合図で、筆記用具を置きなさい。

受 験 番 号				名 前

1 次の地図を見て、後の問いに答えなさい。



問1 わが国は、アンデス山脈、ロッキー山脈からフィリピン、ニュージーランドにかけて広がる、地震や火山活動が活発な造山帯の一部に含まれています。この造山帯を何といいますか。答えなさい。

問2 地図中Aの県の沿岸部では、夏に冷たく湿った風が吹くことによって、冷害が起こることがあります。この冷害の原因となる風を何とといいますか。答えなさい。

問3 地図中Bの県では、大消費地に近い条件を活かし、都市向けに農産物を生産する農業が盛んに行われています。この農業を何とといいますか。答えなさい。

問4 地図中Cの県では、河川の堆積作用によって、次の写真のような地形が形成されています。この地形の説明として正しいものを、次のア～エから1つ選んで、記号で答えなさい。



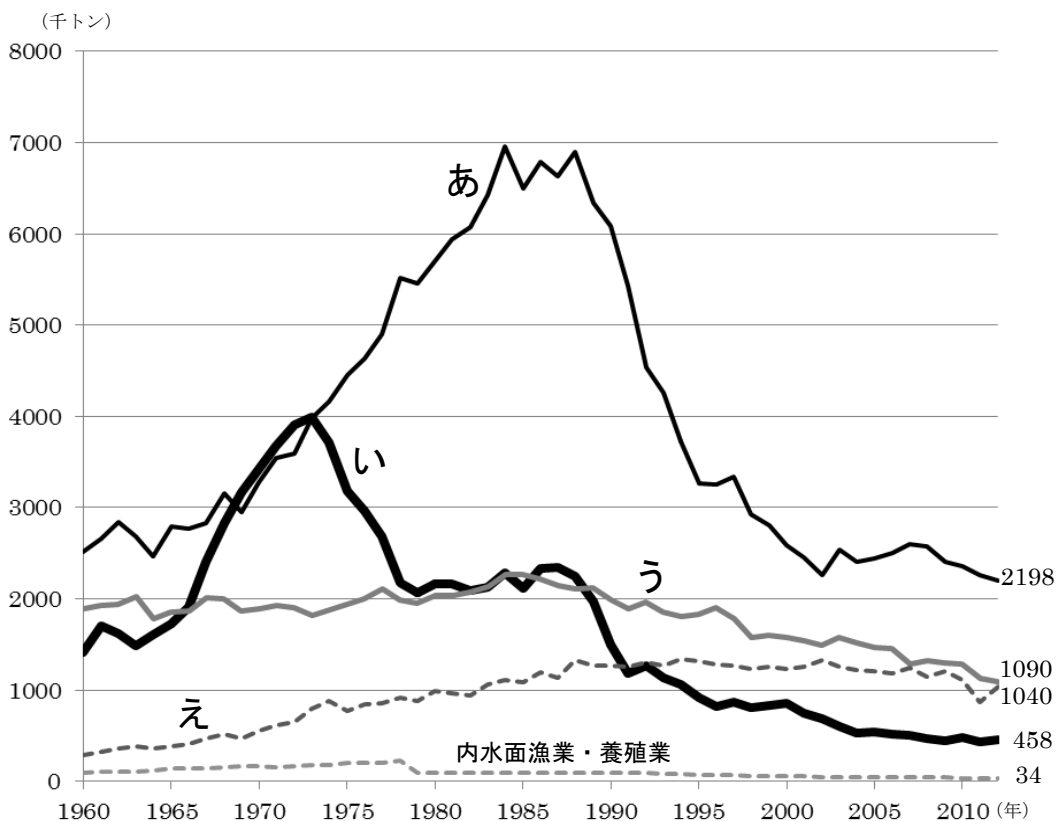
ア この地形は、河川によって上流から運搬された土砂が、山地から平地に出たあたりに堆積して形成されている。

イ この地形の中央部では、水はけが良く稲作に適しているため、水田として多く利用されている。

ウ この地形の末端部は、河川が運搬した細かい土砂により、河口が埋め立てられている。

エ この地形では、上部や末端部よりも、中央部に集落が形成されている。

問5 地図中Dの県には、わが国有数の漁港である境港があります。次の図は、わが国の漁業方法別の漁獲量の推移を示しています。この図の内容やわが国の漁業について説明したものと誤っているものを、次のア～エから1つ選んで、記号で答えなさい。



[海面漁業生産統計調査（農林水産省）による]

- ア 図中あは、沖合漁業を示している。近隣国の漁獲量の増加の影響などで、1980年代を境に減少したが、現在最も漁獲量の多い漁業方法である。
- イ 図中いは、遠洋漁業を示している。石油危機以降、漁獲量は減少傾向にあり、現在では最盛期と比べて10分の1以下となっている。
- ウ 図中うは、沿岸漁業を示している。1985年以降、環境の変化にともない漁獲量は減少傾向にあるものの、2010年では、漁獲量が2番目に多い漁業方法である。
- エ 図中えは、海面養殖業を示している。「育てる漁業」として、養殖業や栽培漁業が各地で行われるようになり、現在の漁獲量は、1965年と比較して2倍以上増加している。

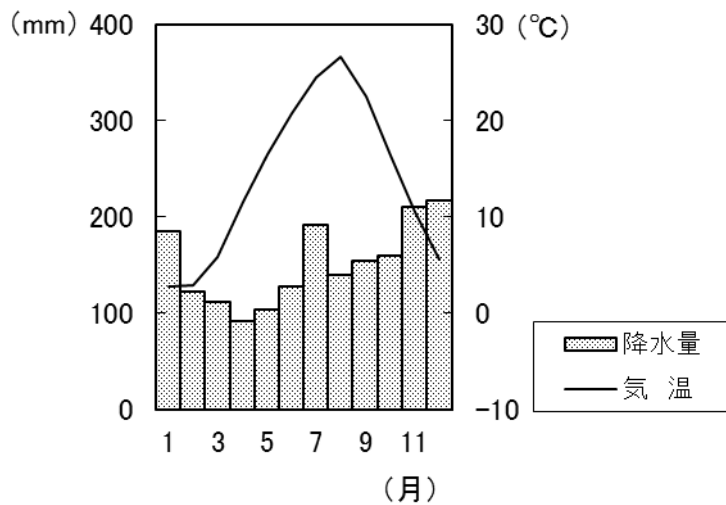
問6 地図中Eの県には、日本最大級の地熱発電所が存在しています。近年注目されている、地熱や水力、風力、太陽光など、消費しても枯渇しない、地球環境に対する負担の少ないエネルギー源のことを何エネルギーといいますか。漢字4字で答えなさい。

問7 地図中A～Eのうち、都道府県名と県庁所在地名が一致しないものを、すべて選んで、記号で答えなさい。

問8 地図中①の地域は、山地が海に沈み込み、谷の部分に海水が入り込んで形成された複雑な地形がみられます。この地形名を答えなさい。

問9 地図中②が示す海流名を答えなさい。

問10 次の雨温図は、地図中ア～エのいずれかの都市のもので、この雨温図にあてはまる都市を、ア～エから1つ選んで、記号で答えなさい。



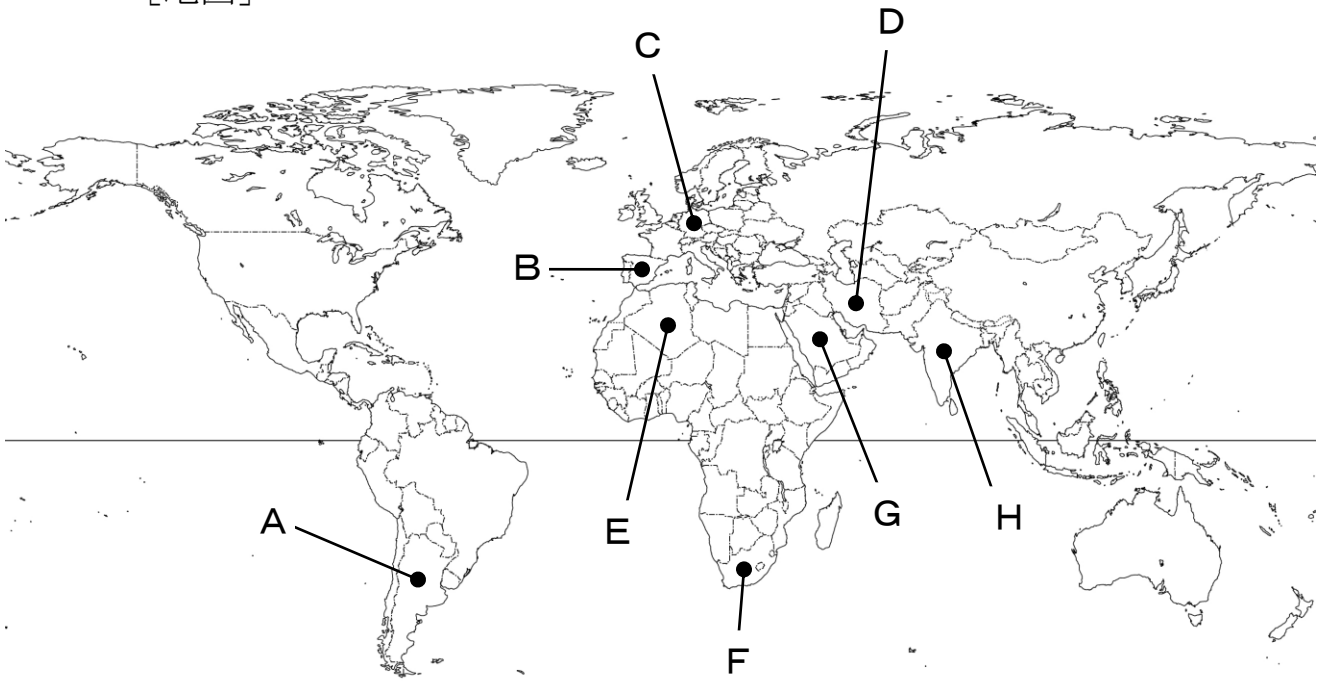
2 次の表は、10 の世界の国々の地理的な資料をまとめたものです。[表] の (あ) ~ (え) にあてはまる国を [地図] の A ~ H からそれぞれ選びなさい。そして、その国の様子を [説明文] の ① ~ ④ からそれぞれ選んで、記号で答えなさい。また、後の問いに答えなさい。

[表]

	人口 (千人)	国民総所得 (億ドル)	輸出額 (百万ドル)	小麦 生産量 (万トン)	牛肉 生産量 (万トン)	クロム 産出量 (千トン)	原油 産出量 (万トン)	鉄鉱石 産出量 (万トン)
アメリカ合衆国	326767	183573	1546725	6286	1147	—	13941	2880
(あ)	57398	3069	88845	191	111	12000	16	4640
ブラジル	210868	18360	217756	683	928	500	11684	25700
(い)	82293	36246	1335897	2446	116	—	241	5
中国	1415046	113742	2280367	13169	700	20	10313	23200
(う)	33554	7012	221045	77	4	—	50824	—
オーストラリア	24772	13130	231050	2227	236	33	1538	48600
(え)	1354052	22123	298919	9350	91	3000	3695	9600
イギリス	66574	27785	441263	1438	91	—	4283	—
ロシア	143965	14257	357083	7329	162	400	51023	6110

[地理統計要覧 2019 年版、2019 データブック オブ・ザ・ワールド (二宮書店) による]

[地図]



[説明文]

- ① 200年近くにわたってイギリスによる植民地支配を受けてきた。1947年に独立した後も、農業にたよる経済、身分制度による差別など社会問題が残った。しかし、20世紀末に、政府が自動車工業や情報通信技術（IT）産業を盛んにする経済自由化政策を打ち出すと経済はめざましく成長した。
- ② 国土のほとんどは砂漠で、羊やラクダの遊牧がわずかに見られる。近年、地下水をくみ上げて、スプリンクラーを回転させて水をまくセンターピボット方式など、大規模な灌漑設備で農業を発展させている。また、イスラム教が広く信仰されていて、預言者ムハンマドが生まれたイスラム教の最大の聖地であるメッカには、世界中から信者が訪れる。
- ③ この国の白人は17世紀以降移住してきたオランダ人の子孫で、全住民の15%足らずにすぎないが、1913年以降、①人口の約70%をしめる黒人に対して徹底した差別政策をとってきた。世界中から上がった非難の声もあって、1991年に差別を定めたすべての法律が廃止された。
- ④ 1949年に国土が東西に分裂したが、1990年に統一された。豊かな石炭をもとに世界的な工業国に発展し、なかでもルール炭田で採れる豊かな石炭と国際河川であるライン川の水運を利用して、鉄鋼業が発達したルール地方は世界でも有数の工業地帯である。

問1 下線部①について、この国で行われていた人種隔離政策を何といいますか。答えなさい。

問2 わが国が2020年3月1日午前3時のとき、イギリスは2020年何月何日の午前もしくは午後何時ですか。答えなさい。

(次のページへ続く)

3 次のA～Nの文を読んで、後の問いに答えなさい。

- A 紀元前後の日本は 100 以上の国々に分かれていました。1 世紀半ばに、ある国の国王が後漢の皇帝に使者を送り、①金印を授けられました。3 世紀には小さな国々に分かれ、長い争いが続きました。
- B 3 世紀後半に誕生したヤマト王権は、大王を中心に大和や周辺の有力豪族で構成されていました。5 世紀になると、②中国の南朝にたびたび使者を送る大王も現れました。
- C 6 世紀になると、豪族の対立や争いが激しくなりました。渡来人の知識と技術を用い、ヤマト王権で勢力を大きくのぼしたのが蘇我氏でした。推古天皇の摂政となった③聖徳太子は、蘇我氏と協力して新しい政治を行いました。そして、604 年に聖徳太子は④十七条の憲法を定めました。
- D ⑤奈良時代には、仏教は国家を守る力をもつと考えられ、天皇や貴族の信仰を集めました。また、(1) は民衆の間に仏教を広めたほか、橋やため池をつくるなど社会事業を行って人々の生活を救いました。
- E 7～9 世紀、唐の政治のしくみや進んだ文化を取り入れるために、⑥遣唐使や留学生などが派遣されていました。⑦最澄と空海は遣唐使とともに唐に渡って、仏教を学び、帰国後に新しい仏教の宗派を開きました。
- F 10 世紀半ば、関東では (2) が武士団を率いて、各地の国府を次々と襲いました。そして、国司を追い出して自ら「新皇」と宣言しました。また、瀬戸内海でも藤原純友が武士団を率いて反乱を起こしました。朝廷にはこれらの反乱を鎮めるだけの十分な軍事力がなく、武士たちの力を借りてようやく平定しました。
- G 平安時代には、シャカが亡くなってから 2000 年がたつと、仏教の教えが衰え、世の中が乱れる末法の時代が来るという思想が広まりました。1052 年がその元年とされ、(3) は極楽浄土を再現した平等院鳳凰堂を建立しました。

H 鎌倉時代には、民衆や武士の心のよりどころとして⑧新しい仏教の宗派が広まりました。これらの新しい仏教はわかりやすく、実行しやすかったので、多くの人々の心をとらえました。

I 14世紀末の朝鮮半島では、李成桂が高麗をたおし、朝鮮を建国しました。朝鮮は日本に倭寇の取り締まりと通交を求めてきました。室町幕府はこれに応じて、⑨朝鮮との貿易を開始しました。

J 織田信長は、⑩自治を行う都市の豪商たちに軍用金を課し、自治をうばい支配していきました。信長の死後、後継者となった⑪豊臣秀吉は、⑫百姓から武器を取り上げるなど、支配を強めていきました。

K フランスでは、アメリカ独立戦争への支援などで財政が苦しくなりました。そこで、国王が貴族にも課税しようと聖職者・貴族・市民や農民の代表からなる議会を招集しました。しかし、政治に対する不満から、一部の貴族や市民が立ち上がり、⑬フランス革命が起きました。

L 明治時代に、政府に不満を持つ鹿児島の上士族らが、⑭西郷隆盛を中心に、(4) を起こしました。しかし、この反乱は徴兵令で組織された近代的軍隊によって鎮圧されました。以後、武力による反乱はなくなりました。

M 日清戦争後には、鉄道の建設や軍備の拡張のために、鉄鋼の需要が高まりました。政府は、⑮下関条約で清から得た賠償金などを用いて、官営の八幡製鉄所を建設し、鉄鋼の生産を始めました。

N 太平洋戦争後、日本は経済復興と国際復帰をめざしていました。朝鮮戦争の影響で好景気となり、復興がすすみました。また、⑯サンフランシスコ平和条約により、日本は独立国としての主権を回復し、国際社会に復帰することになりました。

問1 (1) ～ (4) にあてはまる最も適当な人物名や語句をそれぞれ答えなさい。


問2 下線部①について、この金印に刻まれている文字を漢字5字で答えなさい。

問3 下線部②について、次の図版は埼玉県の稲荷山古墳から出土した鉄剣です。この鉄剣に刻まれている大王名をカタカナ5字で答えなさい。



問4 下線部③について、この人物が活躍した時代につくられたものとして正しいものを、次のア～エからすべて選んで、記号で答えなさい。


ア



イ



ウ



エ



問5 下線部④について、この内容として誤っているものを、次のア～エから1つ選んで、記号で答えなさい。

- ア 人々の和を重視せよと説いた。
- イ ヤマト王権の役人・豪族の守るべき心得を説いた。
- ウ 天皇を中心とする国家のあり方を示した。
- エ 6歳以上の男女に口分田を与えることを定めた。

問6 下線部⑤について、この時代につくられた貨幣として正しいものを、次のア～エから1つ選んで、記号で答えなさい。



問7 下線部⑥について、894年に遣唐使の廃止を提案した人物名を答えなさい。

問8 下線部⑦について、次の文章の(a)・(b)にあてはまる語句の組み合わせとして正しいものを、次のア～エから1つ選んで、記号で答えなさい。

最澄は、(a) を建てて、(b) を広めました。

- | | | | | | | |
|---|---|---|------|---|---|-----|
| ア | a | — | 金剛峯寺 | b | — | 天台宗 |
| イ | a | — | 延暦寺 | b | — | 真言宗 |
| ウ | a | — | 延暦寺 | b | — | 天台宗 |
| エ | a | — | 金剛峯寺 | b | — | 真言宗 |

問9 下線部⑧について、法然が説いた教えとして正しいものを、次のア～エから1つ選んで、記号で答えなさい。

- ア 「南無妙法蓮華経」と唱えれば人も国家も救われると説いた。
- イ 座禅によって自らの力で悟りを開くことを説いた。
- ウ 踊念仏や念仏の札によって救われると説いた。
- エ 阿弥陀仏の救いを信じて、「南無阿弥陀仏」と唱えることを説いた。

問10 下線部⑨について、この貿易の主要な輸入品として正しいものを、次のア～エから1つ選んで、記号で答えなさい。

- ア 綿織物
- イ 銅
- ウ 香辛料
- エ 刀剣

問11 下線部⑩について、この自治都市名として正しいものを、次のア～エから1つ選んで、記号で答えなさい。

- ア 長崎
- イ 江戸
- ウ 堺
- エ 山口

問12 下線部⑪について、この人物が活躍したころの世界で起こった出来事として正しいものを、次のア～エから1つ選んで、記号で答えなさい。

- ア アヘン戦争が起こった。
- イ イギリスがスペインの無敵艦隊を破った。
- ウ 十字軍の派遣が始まった。
- エ 世界最初の産業革命が起こった。

問13 下線部⑫について、刀狩や検地によって武士と百姓の身分を区別しました。このことを何といいますか。漢字4字で答えなさい。

問14 下線部⑬について、この革命が起こった18世紀後半に、日本で起こった出来事として正しいものを、次のア～エから1つ選んで、記号で答えなさい。

- ア 島原・天草地方のキリスト教徒の百姓などが、一揆を起こしました。
- イ 徳川綱吉が、孔子をまつる聖堂を湯島に建てるなど儒学を奨励しました。
- ウ 松平定信が、徳川吉宗の政治を理想とする寛政の改革を始めました。
- エ 水野忠邦が、倹約をすすめて生活の引き締めを行う天保の改革を始めました。

問15 下線部⑭について、政府内での征韓論争に敗れ、西郷隆盛とともに政府を去った人物として正しいものを、次のア～エから1つ選んで、記号で答えなさい。

- ア 伊藤博文
- イ 大久保利通
- ウ 岩倉具視
- エ 板垣退助

問16 下線部⑮について、この内容として誤っているものを、次のア～エから1つ選んで、記号で答えなさい。

- ア 樺太の南半分を日本に譲渡する。
- イ 台湾を日本に譲渡する。
- ウ 遼東半島を日本に譲渡する。
- エ 朝鮮を独立国であると認める。

問17 下線部⑯について、この平和条約の説明として正しいものを、次のア～エから1つ選んで、記号で答えなさい。

- ア この条約は、最初、アメリカ・中国・ソ連など48か国との間に結ばれました。
- イ この条約は、内閣総理大臣の吉田茂によって調印されました。
- ウ この条約と同時に日米安全保障条約が結ばれましたが、調印反対運動が全国で起こったため、岸内閣が総辞職しました。
- エ この条約と同じ年に、日本は国際連合に加盟することができました。

4 次の文章は、昨年のある新聞の社説です。文を読んで、後の問いに答えなさい。

85歳から59歳へ。世代間で皇位が厳かに継承されたことを喜びたい。①天皇が即位後初めて②国民の代表と会う「即位後朝見の儀」がきのう皇居で行われた。新天皇陛下は「常に国民を思い、国民に寄り添いながら、③憲法にのっとり、象徴としての責務を果たす」と述べられた。この表現は、前の天皇陛下の歩みと重なる。新陛下は平成の時代に作り上げられた象徴像を基本的に引き継ぐお気持ちを表明した。前の陛下のお務めを多くの国民が支持したことを考えれば、自然な姿だ。注目されたのは、前の陛下が即位時に「日本国憲法を守り、これに従って責務を果たす」と述べられていたおことばを、今回どう表現するかだった。言葉遣いはやや変わっても、基本姿勢は同じとみられる。

新陛下は皇太子時代、沖縄慰霊の日、広島・長崎への原爆投下の日、終戦記念日には子どもの時から両親と一緒に黙とうしたことを明かし、現地を訪れて人々の苦難を心に刻んだと述べている。慰霊と平和への思いも引き継がれるだろう。一方、「日本社会の変化に応じて公務に対する社会の要請も変わってくる」とも語り、時代に合った公務を目指す意向を示していた。新陛下にとってライフワークといえるのは「水問題」だ。災害や④環境、貧困、紛争に関わる世界的なテーマでもある。ネパールを視察した時、何時間もかけて、かめに井戸水がたまるのを待つ⑤女性を見たことがきっかけだったという。2007年に大分県別府市で開かれた第1回アジア・太平洋水サミットや⑥国連の国際会議で講演を行い、水問題に取り組むことの重要性を訴えている。新陛下は1983年から約2年間、英オックスフォード大に留学し、寮生活をしながら海外の空気に触れた。この経験が視野を世界に広げることにつながった。外交官出身の新皇后雅子さまとともに豊かな国際感覚を生かし、諸外国との交流にも一層力を尽くすだろう。新皇后さまは体調が上向きとはいえ、完全に復調したわけではない。公務の制限はやむを得ないだろう。新皇后さまは⑦高齢者や子ども、障がい者へ思いを寄せ、盲導犬の普及を図るイベントに出席したり、児童養護施設を訪れたりしている。弱い立場の人たちの力になろうとする姿は共感を広げるはずだ。福祉に力を入れられた上皇后美智子さまの活動を継承しつつ、ご自身ならではの広がりを目指すのではないか。今回、世代間の皇位継承がスムーズに行われた。しかし今後も安定的な継承が行われるかどうかには重大な懸念を抱かざるを得ない。憲法2条は皇位を「世襲」と定め、皇室典範は継承資格を男系男子に限定している。しかし今度の代替わりで、直接の後継者となる皇太子は不在になった。陛下より若い皇位継承者は弟で皇嗣の秋篠宮さまと長男悠仁さまの2人だけだ。

59歳の新陛下が高齢になれば、53歳の秋篠宮さまも高齢になっており、即位をめぐ

り、議論になる可能性もある。次の世代の悠仁さまがいずれ皇位を継承するとしても、男系男子で皇統を継ぐことへの重圧は計り知れない。皇位継承をめぐって最も重要な論点は「女性・女系天皇」を認めるかどうかだ。菅義偉官房長官はいったん、即位から間を置かずに皇位継承の議論を始める考えを示したが、その後、即位関連の儀式が終わる11月以降にすると軌道修正している。問題の重要性を考えれば、速やかに議論を始めるべきだ。すでに2005年11月、⑧小泉政権下で有識者会議が女性・女系天皇を認める報告書をまとめている。だが、秋篠宮妃紀子さまの第3子懐妊を機に皇室典範の改正は見送られ、次の⑨第1次安倍政権は議論そのものを棚上げにした。右派の人は男系男子でなければ天皇制の性格が根本から変わると主張する。しかし、男女のどちらを優先するかなどの問題ではなく、天皇制そのものの危機である。皇室の公務を担う皇族全体としても先細りしている。女性皇族は結婚すれば皇室を離れる。結婚後も皇族として残り、公務を続けられるように、女性宮家を創設することも検討する必要がある。イデオロギーの対立を超えて、建設的な議論を進めるのは政治の責任である。

問1 下線部①について、天皇の国事行為の内容として正しいものを、次のア～エから1つ選んで、記号で答えなさい。

ア 最高裁判所長官の指名

イ 国会の召集

ウ 法律の制定

エ 条約の締結

問2 下線部②について、国民が選んだ代表者によって開かれる国会では、さまざまな問題について審議し、決定します。衆議院解散後の総選挙から30日以内に開かれ、内閣総理大臣の指名などを行う国会を何といいますか。答えなさい。

問3 下線部③について、日本国憲法では、さまざまな権利を保障しています。しかし、社会の変化に伴って、知る権利やプライバシーの権利など、憲法に直接的には規定されていない権利が主張されるようになってきました。このような権利を何といいますか。答えなさい。

問4 下線部④について、私たち一人一人の行動の積み重ねが、地球環境問題にも大きな影響を与えています。地球温暖化の原因とされる二酸化炭素を削減する取り組みとして誤っているものを、次のア～エから1つ選んで、記号で答えなさい。

- ア 冷房の設定温度を1度上げる。
- イ シャワーを1分間短縮する。
- ウ 冷蔵庫にすき間なく詰める。
- エ 温水洗浄便座のふたを閉める。

問5 下線部⑤について、女性の能力を活かすために、育児や介護などの家庭内の男女の分業体制を見直し、仕事と生活を両立できるような仕組みをつくることに、企業も政府も取り組んでいます。このような仕事と生活を両立させる考え方を何とといいますか。カタカナで答えなさい。

問6 下線部⑥について、加盟国からの依頼により、条約の解釈や国際法上の問題に関する紛争について裁判を行う国際連合の機関を何とといいますか。答えなさい。

問7 下線部⑦について、身よりのない高齢者や障がいのある人の中には、不安な日々を送っている人も少なくありません。そこで社会福祉や公的扶助など、政府の責任において生活の不安を取り除こうとする制度を何とといいますか。答えなさい。

問8 下線部⑧について、この政権の時に郵政事業の民営化を行い、行政改革が進められました。この行政改革を行う目的として正しいものを、次のア～エから1つ選んで、記号で答えなさい。

- ア 行政組織や財政規模を大きくすることで、行政を効率化しその任務を減らす。
- イ 行政組織や財政規模を小さくすることで、行政を効率化しその任務を減らす。
- ウ 行政組織や財政規模を小さくすることで、行政を効率化しその任務を増やす。
- エ 行政組織や財政規模を大きくすることで、行政を効率化しその任務を増やす。

問9 下線部⑨について、この政権の時に日本国憲法の改正手続に関する法律が制定されました。憲法改正の仕組みとして正しいものを、次のア～エから1つ選んで、記号で答えなさい。

- ア 内閣や国会議員が、憲法改正案を国会に提案する。
- イ 国会では、衆議院の総議員の3分の2以上の賛成のみで発議される。
- ウ 国民投票の投票権は、満18歳以上の国民である。
- エ 国民投票で有効投票の3分の2以上の賛成で成立する。

問10 この社説の表題としてあてはまるものを、次のア～エから1つ選んで、記号で答えなさい。

- ア 「新天皇陛下が即位 投票率の上昇に期待する」
- イ 「新天皇陛下が即位 主権者教育の立て直しに期待する」
- ウ 「新天皇陛下が即位 米中摩擦の緩和に期待する」
- エ 「新天皇陛下が即位 令和の象徴像に期待する」