

令和3年度

上宮太子高等学校 入学試験問題

社 会

(50分)

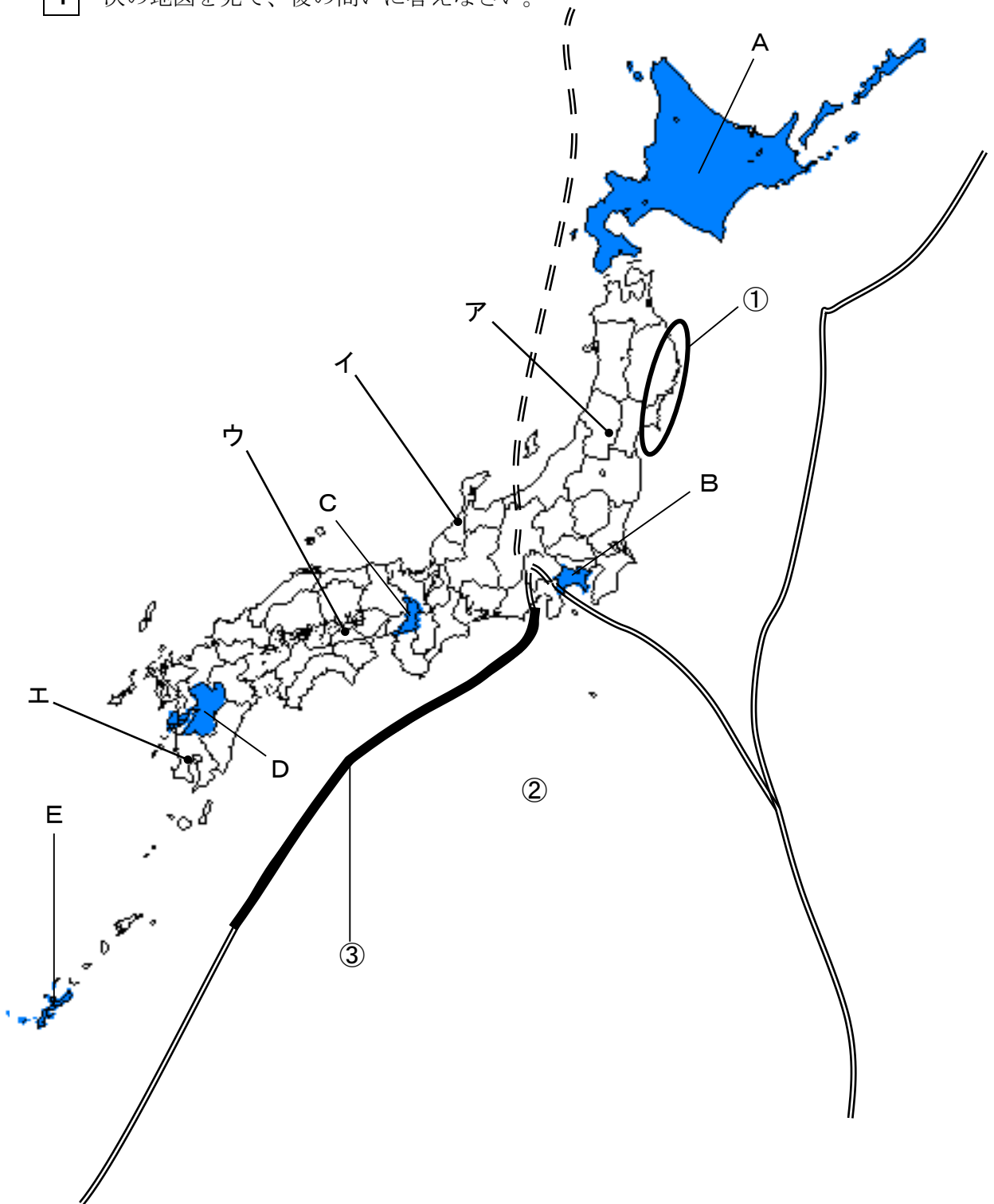
〔注意〕 次の(1)～(5)をよく読むこと。

注 意 事 項

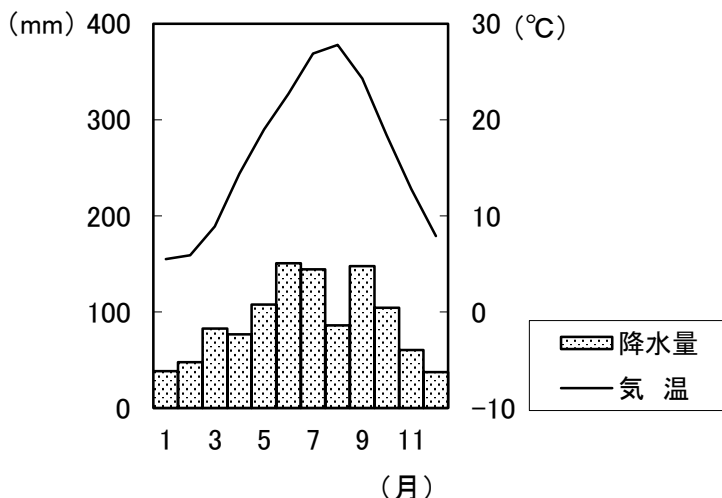
- (1) この問題冊子は、「開始」の合図があるまで開いてはいけません。
- (2) 問題は、**1**から**4**まであります。印刷不鮮明、ページの落丁・乱丁等に気付いた場合は、挙手して監督者に知らせなさい。
- (3) 解答用紙は、別に1枚あります。解答はすべて解答用紙に記入しなさい。
- (4) 受験番号・名前は、問題冊子と解答用紙の両方に記入しなさい。
- (5) 「終了」の合図で、筆記用具を置きなさい。

受 験 番 号				名 前

1 次の地図を見て、後の問いに答えなさい。

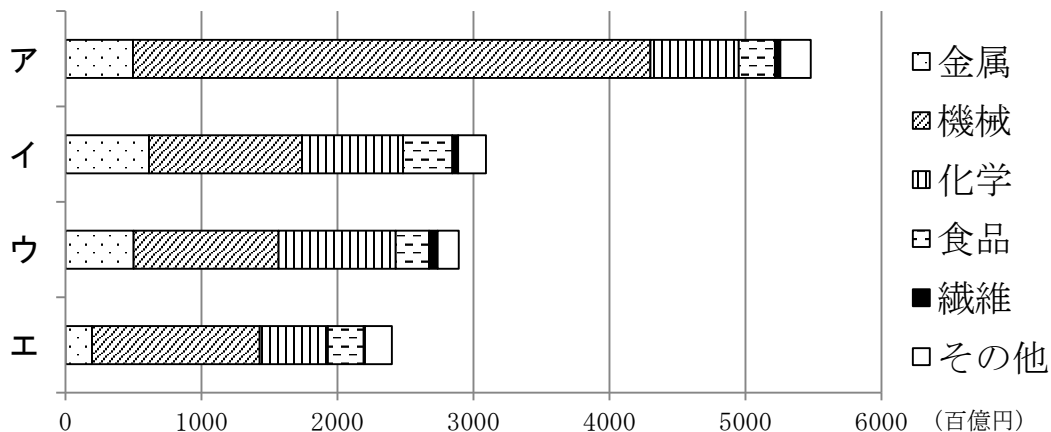


問1 次の雨温図は、地図中ア～エのいずれかの都市のもので、この雨温図にあてはまる都市を、地図中ア～エから1つ選んで、記号で答えなさい。



問2 地図中Aの都道府県では、広い土地で牧草などの飼料を育てて乳牛を飼育し、乳製品を生産する農業が盛んに行われています。この農業を何といいますか。答えなさい。

問3 地図中Bの都道府県は、京浜工業地帯の一翼を担っています。次の図中ア～エは、2016年における京浜工業地帯・中京工業地帯・阪神工業地帯・瀬戸内工業地域のいずれかの工業出荷額とその内訳を示しています。京浜工業地帯を示すものを、次のア～エから1つ選んで、記号で答えなさい。



[地理統計要覧 2020年版(二宮書店)による]

問4 地図中Cの都道府県では、「いのち輝く未来社会のデザイン」というテーマで、「2025年日本国際博覧会（大阪・関西万博）」が開催される予定です。世界が直面するさまざまな課題を解決するために、2030年までの達成をめざした17の目標が国連サミットで採択されました。大阪・関西万博では、「未来社会の実験場」をコンセプトとして、この目標を達成するための様々なアイデアが発信されます。国連サミットで採択されたこの目標の略称を何といいますか。アルファベットで答えなさい。

問5 地図中Dの都道府県の説明として正しいものを、次のア～エから1つ選んで、記号で答えなさい。

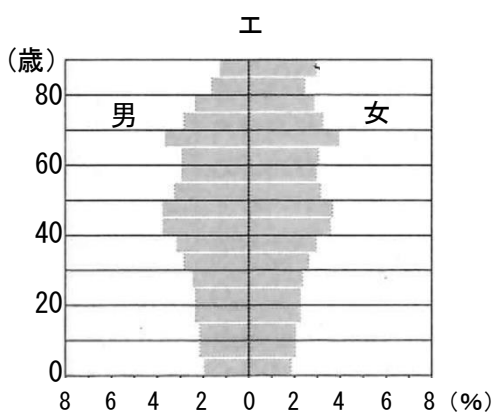
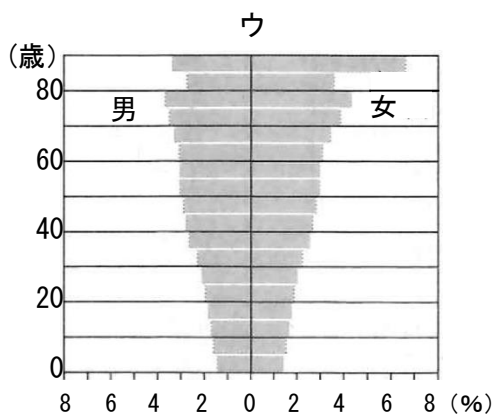
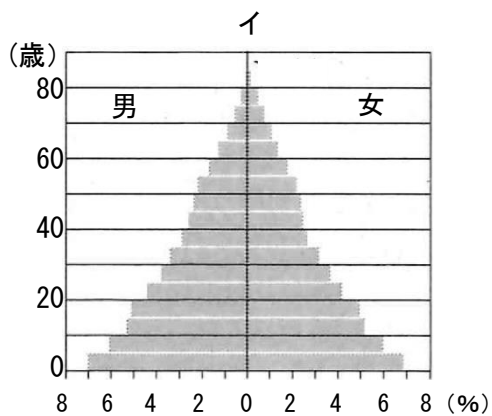
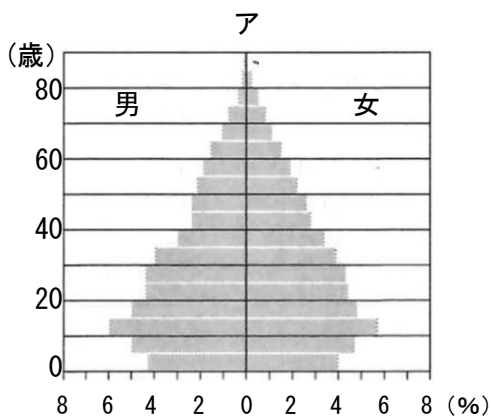
ア 人口や産業が集中する地方中枢都市があり、さまざまな交通網によって各地と結びついています。わが国最初の製鉄所が建設され、重化学工業が盛んに行われていたことでも知られています。

イ 火山灰などが堆積して形成されたシラス台地では、保水性に乏しく稲作には適さないため、さつまいもの栽培が盛んに行われてきました。近年は、^{かんがい}灌漑設備が整備され、野菜や茶の栽培も行われています。

ウ 火山活動が活発であることから、有数の温泉観光地があります。温泉水や地熱を利用した地熱発電も盛んで、わが国最大規模の地熱発電所があることで知られています。

エ かつては工場からの排水などが原因で水俣病が発生し、多くの人びとが苦しみました。環境を回復させる取り組みの結果、再び漁業ができるようになり、近年では公害を乗り越えた環境モデルとして注目されています。

問6 地図中Eの都道府県は、わが国で出生率が最も高い都道府県です。次の図ア～エは、わが国の1930年・1960年・2018年、および2050年（推計）のいずれかの年齢別・男女別人口構成（人口ピラミッド）を示しています。2018年の人口ピラミッドとして正しいものを、次のア～エから1つ選んで、記号で答えなさい。



問7 地図中A～Eの都道府県で、都道府県名と県庁所在地名が一致しないものを、地図中A～Eからすべて選んで、記号で答えなさい。

問8 地図中①の地域の沖合は、暖流と寒流がぶつかる潮目があり、世界でも有数の漁場となっています。この地域で潮目を形成する海流の組み合わせとして正しいものを、次のア～カから1つ選んで、記号で答えなさい。

- | | | |
|---|---------|---------|
| ア | 暖流—千島海流 | 寒流—対馬海流 |
| イ | 暖流—千島海流 | 寒流—日本海流 |
| ウ | 暖流—対馬海流 | 寒流—千島海流 |
| エ | 暖流—対馬海流 | 寒流—日本海流 |
| オ | 暖流—日本海流 | 寒流—千島海流 |
| カ | 暖流—日本海流 | 寒流—対馬海流 |

問9 地図中の二重線（**=====**）や二重破線（**====**）は、日本付近に分布するプレートの境界を示しています。これについて、後の問いに答えなさい。

(1) 地図中②が示すプレート名として正しいものを、次のア～エから1つ選んで、記号で答えなさい。

- | | | | |
|---|------------|---|-----------|
| ア | フィリピン海プレート | イ | ユーラシアプレート |
| ウ | 北アメリカプレート | エ | 太平洋プレート |

(2) 地図中③の太線（**————**）は、2つのプレートが接することで海底がすじ状に深くなっている海溝の一部で、近い将来大きな地震をもたらすといわれています。地図中③が示す部分を何といいますか。答えなさい。

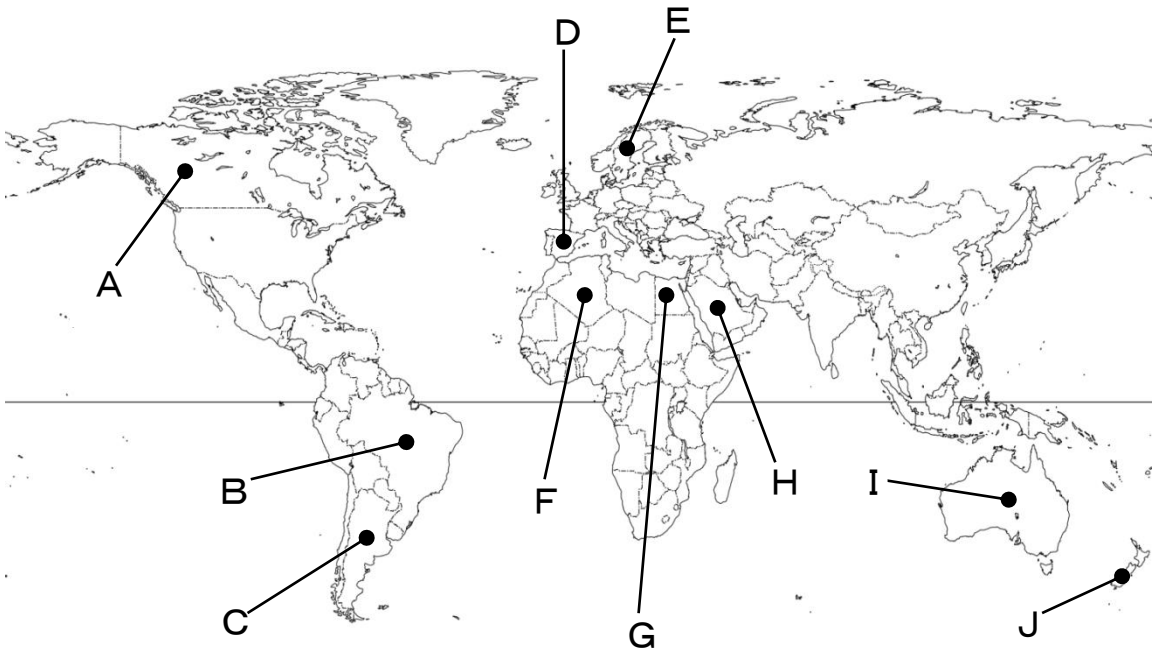
- 2 次の表は、10 の世界の国々の地理的な資料をまとめたものです。[表]の(あ)～(え)にあてはまる国を [地図] の A～J からそれぞれ選びなさい。そして、その国の様子を [説明文] の ①～④ からそれぞれ選んで、記号で答えなさい。また、後の問いに答えなさい。

[表]

	人口 (千人)	さとうきび (万 t)	なつめやし (万 t)	オリーブ油 (万 t)	ワイン (万 t)	ボーキサイト (万 t)	ダイヤモンド (万カラット)	日本への輸出額 (億円)
ロシア	145872				33	543	4190	17226
(あ)	100388	1526	159	2	0.5			300
フランス	67351			0.49	429			12192
(い)	46737		0.18	174	461			3704
アメリカ	329065	3015	3.9	1.1	330			90111
中国	1433784	10440	16		170	6080	0.1	191871
(う)	211050	75855			27	3440	3.2	7610
インド	1366418	30607				2389	3.4	6076
イラン	82914	756	119			50		3811
(え)	25203	3656		0.59	119	8200	1357	50485

[2020 データブック オブ・ザ・ワールド (二宮書店) による]

[地図]



[説明文]

- ① 1822年にポルトガルから独立。世界一の流域面積をほこるアマゾン川が北部を流れ、流域には熱帯雨林が広がっている。この熱帯雨林は、世界の熱帯林の3分の1に相当する面積を有し、「地球の肺」ともよばれ、地球の酸素供給の多くを担っているといわれる。
- ② 1901年にイギリスから独立。「からっぽの大陸」といわれるように乾燥地域がほとんどで、中部から西部にかけては砂漠もみられる。グレートアーテジアン（大鑽井）盆地を中心に牧畜が盛んで、肉類や羊毛の大輸出国である。かつては金鉱が発見されゴールドラッシュに湧いたが、欧米以外からの移民が増え、白人の優越を原則とする白豪主義が強化された。

③ 日本にはじめてキリスト教を伝えたフランシスコ＝ザビエルや画家のピカソが生まれた国である。この国の北部は④西岸海洋性気候で、中部から南部にかけては地中海性気候が広がっている。また、国土のほぼ3分の2は標高700m前後の高原で、耕地と牧草地が広がり、農牧業が盛んに行われている。

④ 四大文明の一つの発祥地である。1922年にイギリスから独立。国土のほとんどが砂漠であるが、ナイル川の下流域を中心に、綿花・小麦・米などの栽培が盛んである。しかし、1970年のアスワンハイダム完成により耕地は拡大したが、下流域では水量の減少による塩害などの問題が起こっている。

問1 下線部④について、この気候の説明として正しいものを、次のア～エから1つ選んで、記号で答えなさい。

ア 一年中気温が高く、降水量が少ない乾季と、降水量が多い雨季がある。

イ 夏は気温が高く、降水量が少なくなり乾燥する。冬は偏西風の影響で、降水量が多くなる。

ウ 一年間における気温の差が大きい。季節風の影響で、夏に降水量が多く、冬に少ない。

エ 暖流と偏西風の影響で、夏は涼しく、冬は高緯度のわりに気温が高い。一年中平均して降水量がある。

問2 わが国が2月10日午前3時のとき、アメリカ合衆国のサンフランシスコ（西経120度）は2月何日の午前もしくは午後何時ですか。答えなさい。

3

次のA～Jの文を読んで、後の問いに答えなさい。

- A ①縄文時代の終わり頃、九州北部に稲作が伝わり、そして②弥生時代には、東日本にまで広がりました。稲作が盛んになると、食料の供給が安定し、人口が増加したため、ムラとムラの間で土地をめぐる争いが生じました。やがて周辺のムラをまとめる有力なクニが現れました。
- B ③聖徳太子は、家柄にとらわれず個人の才能によって役人を用いるために（ 1 ）の制度を設けました。また聖徳太子は、進んだ中国の文化を取り入れるために、小野妹子らを遣隋使として遣わしました。幾度も送られた遣隋使には、多くの留学生や僧が同行しました。
- C 桓武天皇は、新しい都で政治を立て直すために、平安京に都を移しました。この後の約 400 年間は④平安時代といいます。また桓武天皇は、東北地方の蝦夷に対して坂上田村麻呂を（ 2 ）に任命し、大軍を送りました。このようにして、律令国家の支配を強めていきました。
- D 伊豆にいた（ 3 ）は、平氏を倒そうと挙兵し、全国的な内乱が始まりました。鎌倉を本拠として指揮をとった（ 3 ）は、集まってきた武士と⑤主従関係を結んで御家人とし、武家の政治のしくみを整えていきました。そして平氏を倒した後、武家政権である⑥鎌倉幕府を開きました。
- E 8代将軍（ 4 ）の跡継ぎをめぐって、有力な守護大名の細川氏と山名氏の対立が深まり、京都で応仁の乱が起こると、その戦火は全国に広がりました。守護大名が領地拡大のために戦ったり、⑦家臣に倒される風潮が各地に広まったりした結果、室町幕府の勢力は衰えました。
- F （ 5 ）会の宣教師⑧フランシスコ＝ザビエルが鹿児島に到着し、その後、平戸・山口・堺などでキリスト教の布教を始めました。そして後に来日した宣教師たちも、学校や病院・孤児院を建てるなど人々を救ったので、キリスト教は民衆の間にも広まりました。

G 江戸幕府は、人口増加に対応するために、用水路をつくり干潟や沼地を干拓し、新田開発に力を注いで米の生産量を増やそうとしました。一方、農民たちは⑨新しく発明された農具や、干鰯・油かすなどのより栄養価の高い肥料を使用するようになりました。

H 明治政府は、天皇が神々に誓う形で（ 6 ）を出して、世論に従う政治を行うことなど、新たな政治の方針を示しました。また政府は、欧米諸国に対抗するために国を豊かにして、軍隊を強くすることをめざしました。この政策を、⑩「富国強兵」といいます。

I ロシアで世界初の社会主義革命が起こり、その拡大を恐れた連合国側はシベリアに軍隊を派遣しました。国内では、シベリア出兵を見こした米の買い占めから米価が上昇し、それに対して⑪米の安売りを求める社会運動が起こりました。この運動により寺内正毅内閣は退陣し、⑫本格的な政党内閣が成立しました。

J 日本の国際社会への復帰をめざす首相の（ 7 ）は、講和会議でアメリカ・イギリスなどを中心とする48か国の資本主義諸国との間に、⑬サンフランシスコ平和条約を結びました。これにより日本は主権を回復して、独立を果たしました。次の内閣では、ソ連との国交も回復し、国際連合にも加盟しました。

問1 （ 1 ）～（ 7 ）にあてはまる最も適切な語句や人物名を、それぞれ答えなさい。

問2 下線部①について、この時代の遺跡として正しいものを、次のア～エから1つ選んで、記号で答えなさい。

ア 岩宿遺跡 イ 登呂遺跡 ウ 三内丸山遺跡 エ 唐古遺跡


問3 下線部②について、この時代の生活の様子として正しいものを、次のア～エからすべて選んで、記号で答えなさい。

- ア 食物が豊かに実ることを祈り埴輪が作られました。
- イ 収穫した稲穂を高床倉庫に収めて貯蔵しました。
- ウ 農具として銅鐸や木製のくわ・すきを用いました。
- エ 秋には実った稲穂を石包丁で摘み取りました。

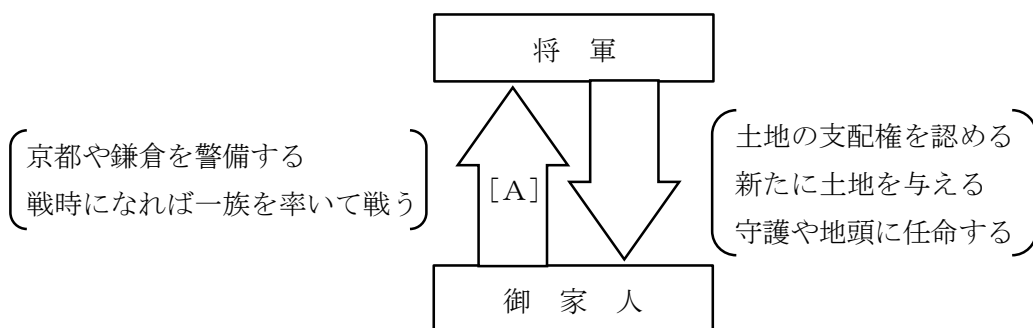
問4 下線部③について、この人物が現在の大阪府に建立した寺院として正しいものを、次のア～エから1つ選んで、記号で答えなさい。

- ア 法隆寺 イ 延暦寺 ウ 金剛峯寺 エ 四天王寺

問5 下線部④について、この時代の様子を描いたものとして正しいものを、次のア～エから1つ選んで、記号で答えなさい。



問6 下線部⑤について、次の図は鎌倉時代の主従関係を示したものです。この図中の空欄[A]にあてはまる語句を答えなさい。



問7 下線部⑥について、将軍を補佐するために北条氏がついた役職として正しいものを、次のア～オから1つ選んで、記号で答えなさい。

ア 関白 イ 老中 ウ 管領 エ 摂政 オ 執権

問8 下線部⑦について、下の身分の者が機会をうかがい、実力で上の身分の者にとってかわるこの風潮を何といいますか。答えなさい。

問9 下線部⑧について、この人物が来日した16世紀に、世界で起こった出来事として正しいものを、次のア～エから1つ選んで、記号で答えなさい。

ア ローマ教皇は、聖地エルサレムをイスラム教徒から取り戻すために、第1回十字軍を派遣しました。

イ ドイツのルターは、免罪符の販売を認めたローマ教皇を批判して、宗教改革を始めました。

ウ ムハンマドは、唯一神アッラーの前では「すべての人は平等である」と説くイスラム教を開きました。

エ チンギス=ハンは、遊牧民の諸部族を統一して、モンゴル帝国を築きました。

問10 下線部⑨について、この頃に使用された脱穀用の農具として正しいものを、次のア～エから1つ選んで、記号で答えなさい。

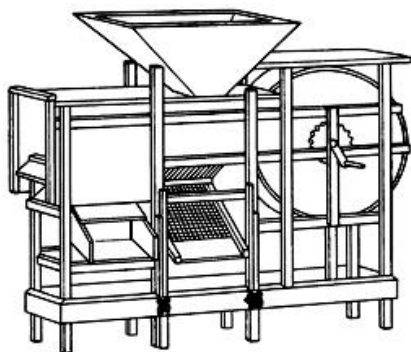
ア



イ



ウ




エ



問11 下線部⑩について、1873年に出された徴兵令の説明として誤っているものを、次のア～エから1つ選んで、記号で答えなさい。

- ア 一家の主人・長男、役人、学生は兵役を免除されました。
- イ 代人料を納めた者は兵役を免除されました。
- ウ 3年間の兵役につくことが義務付けられました。
- エ 18歳以上の男子に兵役につくことが義務付けられました。

問12 下線部⑪について、この運動が最初に発生した地域として正しいものを、地図中ア～オから1つ選んで、記号で答えなさい。



問13 下線部⑫について、この内閣の首相として正しいものを、次のア～エから1つ選んで、記号で答えなさい。

ア 尾崎行雄 イ 犬養毅 ウ 原敬 エ 加藤高明

問14 下線部⑬について、この条約と同日に調印され、アメリカ軍が日本国内に軍事基地を置くことを認めた条約を何とといいますか。漢字8字で答えなさい。

4 次の文章は、昨年のある新聞の社説です。文を読んで、後の問いに答えなさい。

非常時への備えを定めておくことは、国の責務である。与野党は、①憲法のあり方に踏み込んで論議を深めるべきだ。73回目の憲法記念日を迎えた。国民主権、【 X 】、基本的人権の尊重という憲法の理念は、国民に定着し、日本の発展に大きく寄与した。一方、一度も改正されていない憲法は、急速に変化する日本や国際社会に対応しきれていない。憲法を不断に見直し、適切に機能させることが求められる。

日本は今、新型コロナウイルスによる感染症危機の渦中にある。経済はグローバル化し、人やモノは国境を越えて行き交う。現代社会では、感染症は瞬く間に世界に拡散し、多くの死者を出し、社会や経済を麻痺させる。想定外の危機に、政府は万全の態勢を有していたか。憲法をはじめ、日本の法律や諸制度は有効に機能したと言えるか。立ち止まって考える機会とすべきだ。現行憲法は、緊急事態の規定を設けていない。政府は、憲法制定時に、国家緊急権を盛り込むよう連合国軍総司令部に対して提案したが、受け入れられなかった。災害や武力攻撃など事態の内容に応じて、個別の法律で具体的な対応策を定めてきた。憲法が危機管理規定を欠くのは、政治的不作為と言わざるを得ない。自民党は2018年にまとめた4項目の②憲法改正案で、緊急事態条項の創設を提案した。異常かつ大規模な災害で、③国会を開けない場合、政府が法律と同じ効力を持つ政令を制定できる内容だ。緊急事態には迅速で適切な対応が求められる。憲法に基本原則を規定したうえで、法律で政府権限の内容や手続き、歯止めなどをあらかじめ明記しておくのは、法治国家として当然だろう。超法規的な措置で、人権侵害や行き過ぎた私権制限が起きるのを防ぐためにも重要ではないか。自民党案では、自然災害が対象で、外国からの武力攻撃やテロ、感染症は想定していない。感染症が大流行する事態を、巨大地震などと並んで緊急事態条項の対象として位置づけることは検討に値しよう。(中略)世論調査では、憲法で特に関心があるテーマとして、緊急事態を挙げた人は約4割にのぼり、前年より増えた。新型コロナウイルス感染の拡大が影響したとみられる。与野党は、眞摯に議論しなければならない。感染拡大を国家の危機と受け止め、各国は強権を発動している。スペインやイタリアは憲法に基づく非常事態を宣言し、国民の外出や経済活動を制限した。

各国は時代の変化に合わせ、緊急事態の対象をテロや自然災害にも広げている。こうした事例も参考にしたい。緊急事態に国会の機能を維持する方策も、論点の一つだ。憲法は、④衆参両院は総議員の3分の1以上の出席がなければ、議事を開けないと定める。緊急事態においては、定足数を満たせない可能性はありうる。⑤立法府が機能しなければ、予算や法案を成立させることができず、的確に対処できまい。自民党は、大災害で⑥国政選が実施できない場合、憲法が規定する【 Y 】の国会議員の任期

を特例として延長できるようにする案も示している。今の衆院議員の任期は、来年 10 月までだ。緊急事態が起きて、広い範囲で国政選を行えなかった場合、多数の議席が欠員になる可能性もありうる。民主主義を適切に機能させる観点から、各党は、対応策を詰めなければならない。

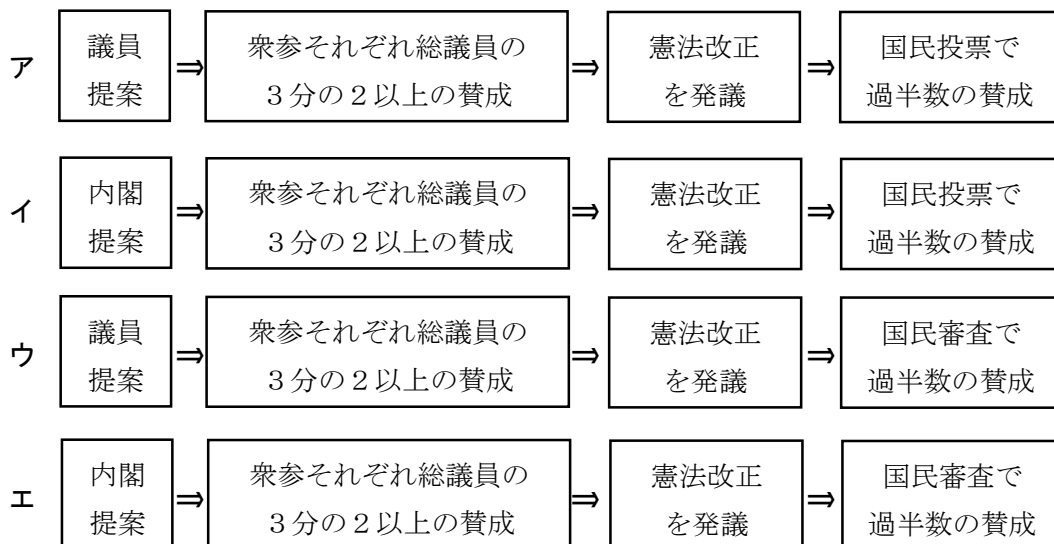
衆参両院の憲法審査会は今国会で一度も開かれていない。与党の呼びかけに対し、野党は緊急事態の議論は平時に行うべきだとして、開催に応じていない。当面の感染症対策は、関係の委員会で審議すべきであるが、現実の課題に照らし、最高法規のあり方を論じるのが審査会の本分である。(中略) 与野党は、早期の開催に向けた道筋をつけるべきだ。中国や北朝鮮の軍事的脅威は高まる。国と国民を守る自衛隊の役割は重要性を増している。自衛隊の根拠規定を憲法に明記し、一部に残る⑦違憲論を払拭するための 9 条の改正にも取り組まねばならない。自民党は国民に対して、改正内容と意義を粘り強く訴えることが大切だ。

問 1 下線部①について、次の文は、日本国憲法第 1 条の条文です。文中の (あ) にあてはまる語句を答えなさい。

「(あ) は、日本国の象徴であり日本国民統合の象徴であつて、この地位は、主権の存する日本国民の総意に基^{もとづ}く。」

問 2 空欄【 X 】にあてはまる語句を、漢字 4 字で答えなさい。

問3 下線部②について、憲法改正の手続きを図式にまとめた時、最も適当なものを、次のア～エから1つ選んで、記号で答えなさい。



問4 下線部③について、国会の仕事のなかで、不適任であると訴えられた裁判官について行う裁判を何といいますか。答えなさい。

問5 下線部④について、両院の意見が異なる場合は、衆議院の意見を優越させています。衆議院の優越の内容として正しいものを、次のア～エから1つ選んで、記号で答えなさい。

- ア 法律案で両院が異なる議決の場合、衆議院の議決が国会の議決になる。
- イ 内閣総理大臣の指名は、衆議院だけができる。
- ウ 条約の承認で両院が異なる議決の場合、衆議院の再可決で国会の議決になる。
- エ 予算の審議は、衆議院で先に行われる。

問6 下線部⑤について、権力を乱用しないように国権を立法権・行政権・司法権に分けて、互いに抑制と均衡をはかる工夫がされています。このような権力分立論を『法の精神』で説いたフランスの思想家を答えなさい。

問7 下線部⑥について、公職選挙法で国政選挙における立候補者の行為として禁止されていることを、次のア～エから1つ選んで、記号で答えなさい。

- ア 自らのホームページで情報発信して投票依頼を行う。
- イ 選挙運動用の電子メールを同意した人に対して送信する。
- ウ 投票を呼びかけるために戸別訪問を行う。
- エ 選挙の公示日から投票日の前日まで選挙運動を行う。

問8 空欄【 Y 】には衆参両院の任期に関する内容が入ります。【 Y 】にあてはまる内容として正しいものを、次のア～エから1つ選んで、記号で答えなさい。

- ア 衆院と参院の4年
- イ 衆院4年、参院6年
- ウ 衆院6年、参院4年
- エ 衆院と参院の6年

問9 下線部⑦について、最高裁判所は違憲審査についての最終的な決定権をもつことから何といいますか。5字で答えなさい。

問10 この社説の表題としてあてはまるものを、次のア～エから1つ選んで、記号で答えなさい。

- ア 「規制緩和と民営化を進めよう」
- イ 「コロナ対策は国の責務である」
- ウ 「グローバル社会に向けた憲法改正が急務である」
- エ 「非常時対応の論議を深めよう」