

令和4年度

上宮太子高等学校 入学試験問題

社 会

(50分)

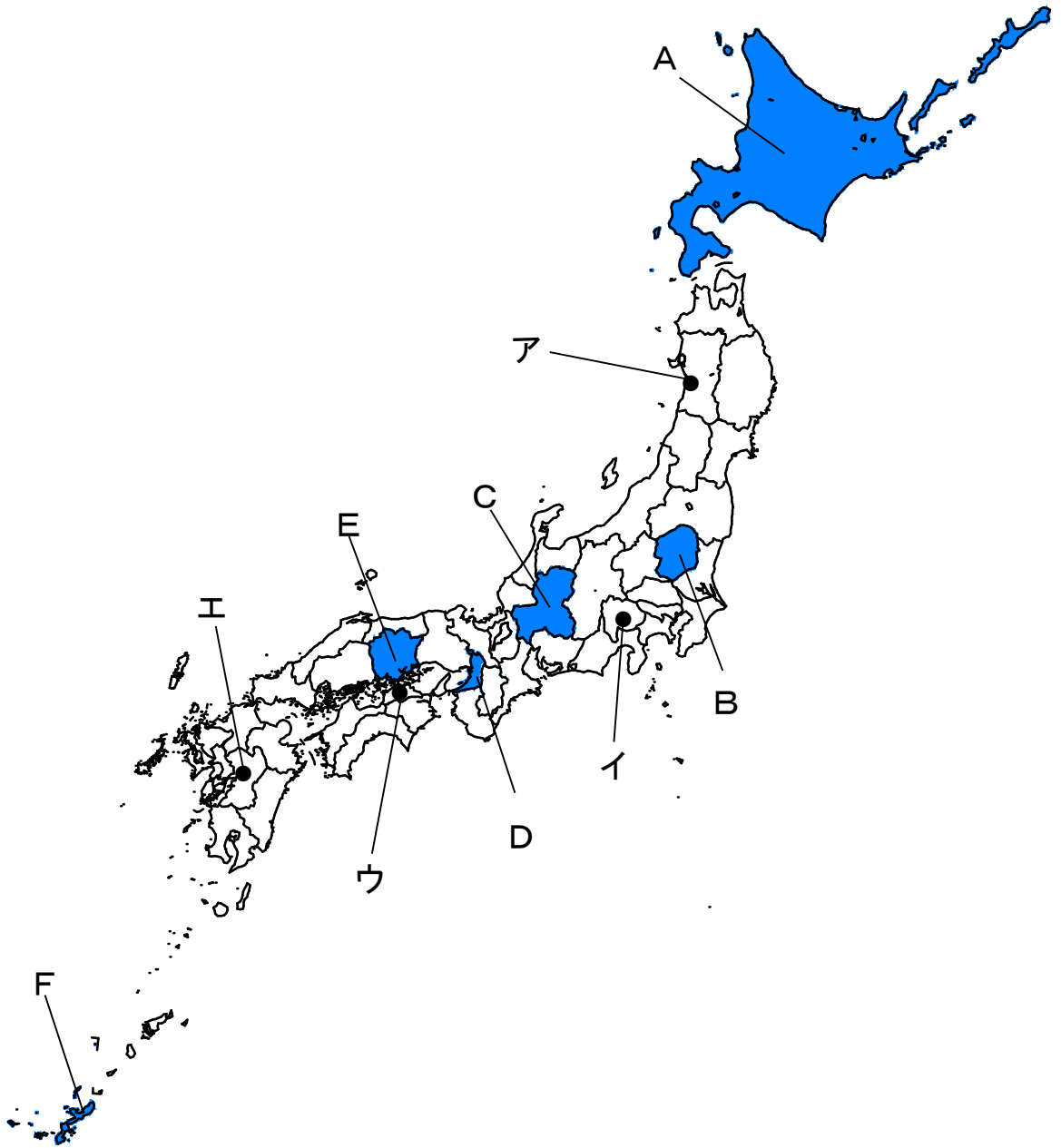
〔注意〕 次の(1)～(5)をよく読むこと。

注 意 事 項

- (1) この問題冊子は、「開始」の合図があるまで開いてはいけません。
- (2) 問題は、**1**から**4**まであります。印刷不鮮明、ページの落丁・乱丁等に気付いた場合は、挙手して監督者に知らせなさい。
- (3) 解答用紙は、別に1枚あります。解答はすべて解答用紙に記入しなさい。
- (4) 受験番号・名前は、問題冊子と解答用紙の両方に記入しなさい。
- (5) 「終了」の合図で、筆記用具を置きなさい。

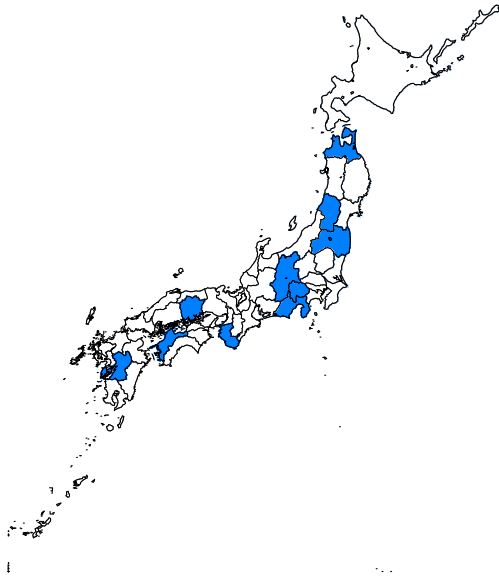
受 験 番 号				名 前

1 次の地図を見て、後の問いに答えなさい。

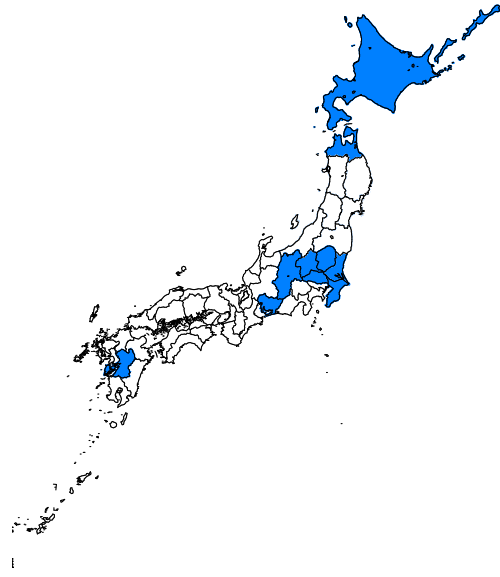


問1 地図中Aの都道府県は、わが国で農業産出額が最も高い都道府県として知られています。わが国では、さまざまな種類の農畜産物が全国的に盛んに生産されています。次の図ア～エは、米、野菜、果実、畜産物の産出額が多い10の都道府県を示しています。野菜の産出額として正しいものを、次のア～エから1つ選んで、記号で答えなさい。

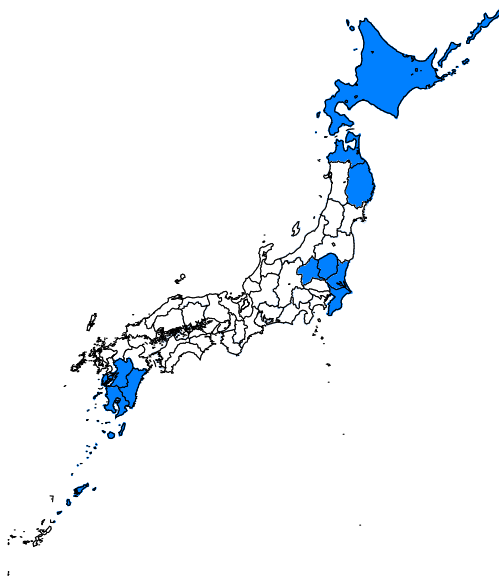
ア



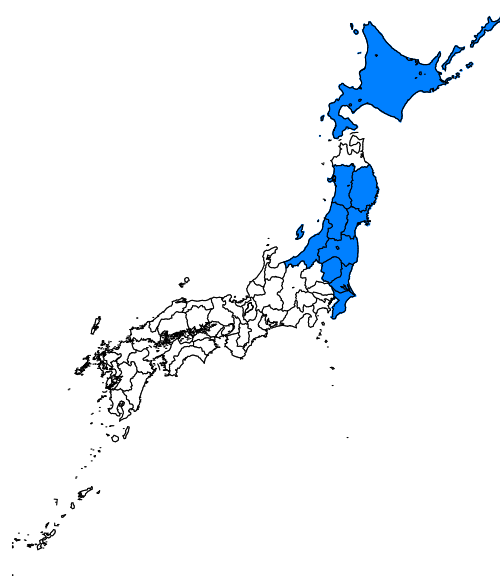
イ



ウ



エ



問2 地図中Bの都道府県の説明として正しいものを、次のア～エから1つ選んで、記号で答えなさい。

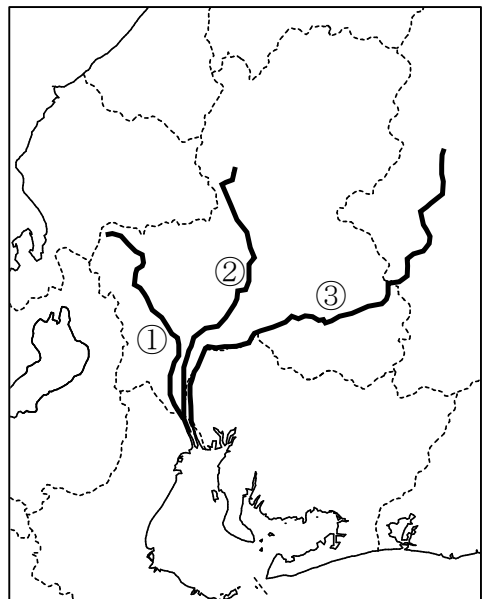
ア 関東地方へ流れる河川の源流となる、わが国で2番目に大きい湖があることで知られている。東部には、国内有数の石油化学コンビナートが建設され、大規模な工業地域がある。

イ 北部には標高1500mを超える山々が連なり、それらから流れ出る複数の河川が関東平野を形成している。南部の平野では、いちごの栽培が盛んに行われており、わが国最大の生産量を誇る。

ウ 北部から西部にかけて山岳地帯が連なるため、夏はフェーン現象によって、県内の都市では気温が40℃前後まで上昇することがある。明治時代に富岡製糸場が建てられて以降、今でも伝統的な繊維工業が行われている。

エ 西部には丘陵地帯がみられるが、それ以外の地域は平地となり、人口がわが国で5番目に多いことで知られている。北部には豊かな農地が広がり、首都圏への立地を生かした都市向けの野菜の栽培が盛んに行われている。

問3 地図中Cの都道府県について、右の地図は、地図中Cとその周辺に流れる「木曾三川」を示しています。これについて、次の問いに答えなさい。

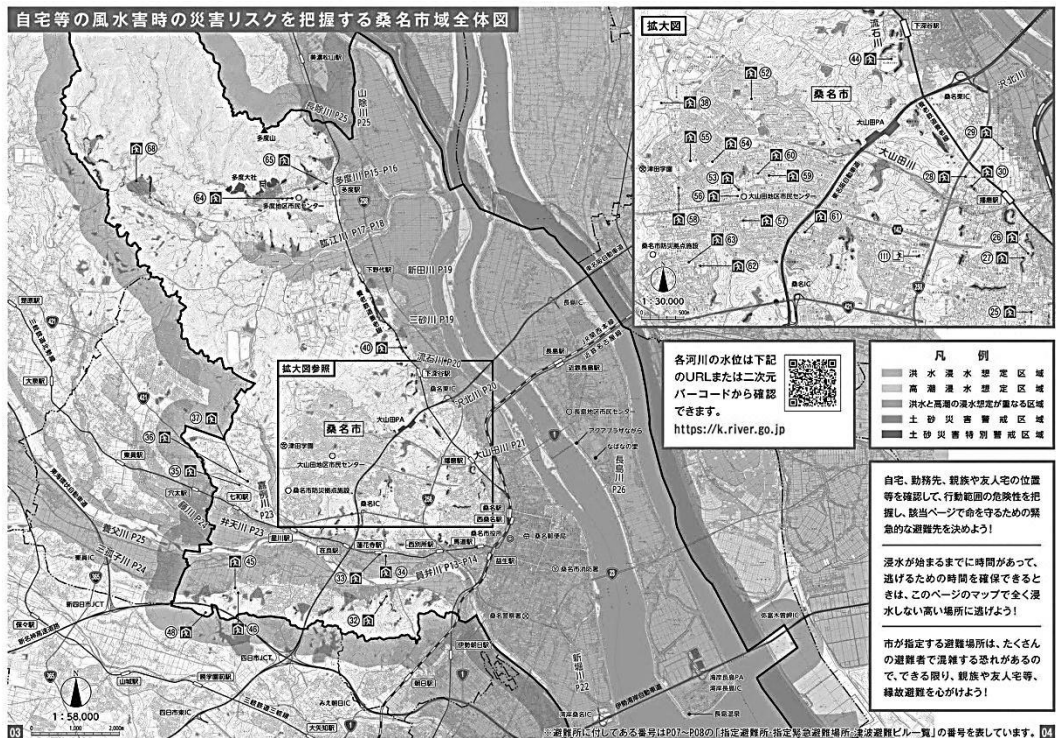


(1) 図中①～③の河川名の組み合わせとして正しいものを、次のア～カから1つ選んで、記号で答えなさい。

- ア ①－木曾川 ②－長良川 ③－揖斐川
 イ ①－木曾川 ②－揖斐川 ③－長良川
 ウ ①－長良川 ②－木曾川 ③－揖斐川
 エ ①－長良川 ②－揖斐川 ③－木曾川
 オ ①－揖斐川 ②－木曾川 ③－長良川
 カ ①－揖斐川 ②－長良川 ③－木曾川

(2) 木曾三川の下流では、上流から運ばれてきた土砂が、河口付近で堆積を繰り返して形成された平らな地形がみられ、おもに水田や集落として利用されています。この地形名を何といいますか。答えなさい。

(3) 次の図は、木曾三川の河口部に位置する三重県桑名市が発行している地図を示しています。この地図には、風水害等により洪水や高潮による浸水の想定区域や土砂災害警戒区域、避難所の場所などが記されています。このような地図を何といいますか。カタカナで答えなさい。



問4 地図中Dの都道府県は、わが国で人口が3番目に多い都道府県です。1950年代以降、人口の急増に対応するために、地図中Dの北部や南部などの郊外の各地で、新たに住宅地が建設されました。これについて述べた文章A・Bの正誤の組合せとして正しいものを、下のア～エから1つ選んで、記号で答えなさい。

A この頃に建設された住宅地は「ニュータウン」と呼ばれ、大規模な区画整理事業によって、たくさんの団地が建てられた。

B 再開発や住宅の建て替えが進められた結果、現在では、若い人が多く集まる住宅地として発展し続けている。

ア A－正 B－正

イ A－正 B－誤

ウ A－誤 B－正

エ A－誤 B－誤

問5 地図中Eの都道府県は、瀬戸内工業地域の一翼を担っています。瀬戸内工業地域の特徴について述べたものとして正しいものを、次のア～エから1つ選んで、記号で答えなさい。

ア かつては繊維工業が盛んに行われていたが、現在では自動車工業を中心とする輸送機械の生産が盛んで、工業出荷額はわが国最大となっている。臨海部では重化学工業が発達しているほか、伝統的な窯業が行われている。

イ 明治時代以降、軽工業、重化学工業が盛んに行われた。沿岸部の埋立地では、鉄鋼や石油化学などの大工場が建設されている。平野部には優れた技術やアイデアをもつ中小企業が多く、世界的なシェアを誇る工場もある。

ウ 臨海部に重化学工業が盛んな工業都市がならんでいる。関連工場がたがいにパイプラインで結ばれた石油化学コンビナートがいくつも建設されている。また、鉄鋼や造船、自動車工業も盛んに行われている。

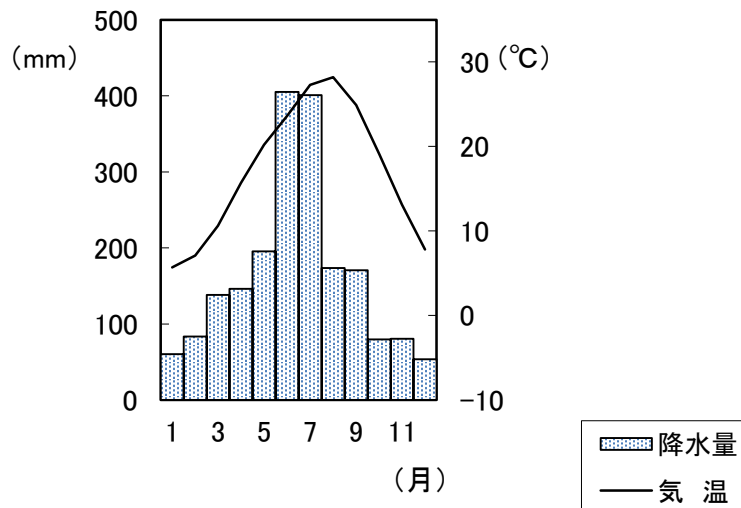
エ 2つの工業地帯に挟まれた沿岸部に工業都市が立地している。かつては自動車の部品の生産や食品加工業が盛んだったが、近年は、オートバイや楽器などの生産のほか、豊富な水を生かした製紙・パルプ業が発達している。

問6 地図中Fの都道府県には、昨年8月に開かれた「第44回世界遺産委員会」でユネスコの世界遺産に登録された地域があります。わが国で昨年にユネスコ世界遺産に登録されたものの組み合わせとして正しいものを、次のア～エから1つ選んで、記号で答えなさい。

- ア 「奄美大島、徳之島、沖縄島北部及び西表島」・「^{もず}百舌鳥・古市古墳群」
- イ 「奄美大島、徳之島、沖縄島北部及び西表島」・「北海道・北東北の縄文遺跡群」
- ウ 「琉球王国とグスクおよび関連遺産群」・「北海道・北東北の縄文遺跡群」
- エ 「琉球王国とグスクおよび関連遺産群」・「百舌鳥・古市古墳群」

問7 地図中A～Fの都道府県で、都道府県名と県庁所在地名が一致しないものを、地図中A～Fからすべて選んで、記号で答えなさい。

問8 次の雨温図は、地図中ア～エのいずれかの都市のもので、この雨温図にあてはまる都市を、地図中ア～エから1つ選んで、記号で答えなさい。



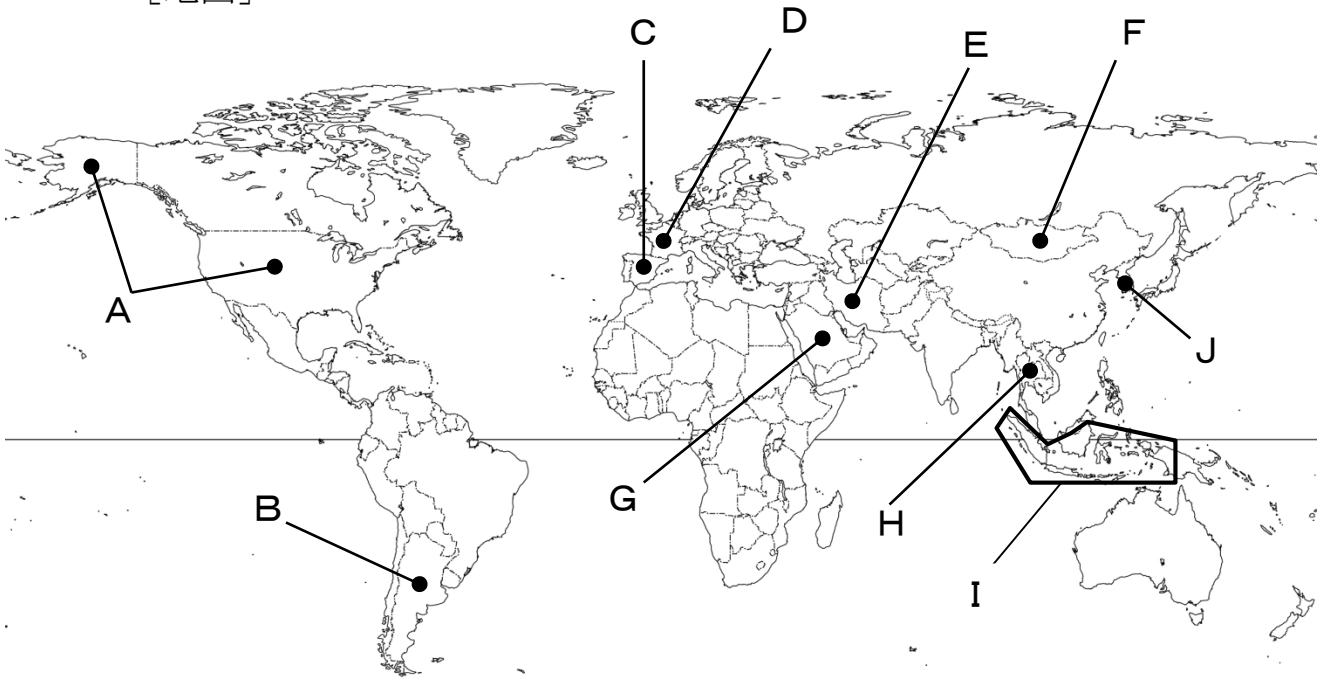
2 次の表は、10 の世界の国々の地理的な資料をまとめたものです。[表] の (あ) ~ (え) にあてはまる国を [地図] の A ~ J からそれぞれ選びなさい。そして、その国の様子を [説明文] の ① ~ ④ からそれぞれ選んで、記号で答えなさい。また、後の問いに答えなさい。

[表]

	カカオ豆 の生産 (千トン)	コーヒー 豆の生産 (千トン)	天然ガス の産出 (億m ³)	パソコン の生産 (千台)	自動車の 生産 (千台)	造船の 竣工量 (万総トン)	航空機の 輸出額 (百万ドル)	観光客数 (万人)
日本			28	3714	973	1621	4537	3119
(あ)			8619		1130	22	10468	7975
ロシア			7152		177	11		2455
(い)			0.09		227	36	53289	8932
ドイツ			64		512	47	42292	3888
ブラジル	239	3557	256		288	14		662
(う)	594	722	723		134	17		1581
コートジボワール	1964	89	25					197
中国		100	1603	270389	2781	2322	4609	6290
(え)			3.1	1300	403	2174	2408	1535

[2021 データブック オブ・ザ・ワールド (二宮書店) による]

[地図]



[説明文]

- ① 1945年にオランダから独立した。国土のほとんど全域が高温多雨の熱帯気候で、米・とうもろこし・さとうきびなどの栽培が盛んである。天然ゴムの生産量は世界第2位である。石油・すず・ボーキサイトなどの地下資源も豊富で、日本へも大量に輸出している。人口の87.2%が②イスラム教徒で、世界最多のイスラム教徒の人口を擁している。
- ② 1776年に13の植民地がイギリスより独立を宣言した。1880年代を境として農業国から工業国へ移行し、第1次世界大戦を契機に国際的地位が著しく向上した。1929年に大恐慌に見舞われたがニューディール政策で乗り切った。第2次世界大戦では連合国の指導者として勝利に導き、戦後マーシャルプランでヨーロッパの経済復興を進めた。

- ③ 夏は暑くなるが、冬にはシベリア気団の影響で寒くなる。そのため床下に煙道を作り、炊事用のかまどの余熱がそのまま流れるようにして床面を暖めるオンドルといわれる伝統的な床暖房も見られる。人口の 29.3%がキリスト教徒で最も多い。1960 年代以降急速に工業化が進み、軽工業だけでなく重化学工業の発展も著しく N I E S の 1 つに数えられる。
- ④ 北大西洋海流が冬の寒さをやわらげ、国土の大半が温帯気候である。農業面では主要食料のほとんどが自給自足できるうえ、穀物・ワイン・牛乳などを EU 諸国に輸出している。原子力発電の比重が大きく約 70%を占めている。2024 年には、この国の首都を中心にオリンピックとパラリンピックが開催される予定である。

問 1 下線部③について述べた文章 A・B の正誤の組み合わせとして正しいものを、下のア～エから 1 つ選んで、記号で答えなさい。

A 牛は多くの神々の中でも特に崇拝されているシバ神の乗り物であり、神聖な生き物とされている。

B 『コーラン』は、アラビア語で書かれた聖典で、預言者ムハンマドが語った神の言葉をまとめたものである。

ア A－正 B－正

イ A－正 B－誤

ウ A－誤 B－正

エ A－誤 B－誤

問 2 わが国が 2 月 10 日午前 9 時のとき、ブラジルの首都であるブラジリア（西経 45 度）は 2 月何日の午前もしくは午後何時ですか。答えなさい。

(次のページへ続く)

3 次のA～Jの文を読んで、後の問いに答えなさい。

- A** 約1万年前に氷期が終わり、いまの日本列島が形成されました。人々は狩りだけではなく、ドングリなど木の実を採集し、土器で煮炊きをするようになりました。また、人々は竪穴住居に定住するようになりました。その近くの（ 1 ）に、食べ物の残りかすなどのごみを捨てました。
- B** （ 2 ）天皇を摂政として助けた甥の聖徳太子は、①蘇我氏とともに天皇を中心とする国家のしくみを整えようとししました。そのために、大陸の文化や政治を取り入れようと、小野妹子らを遣隋使として遣わしました。
- C** 仏教がますます盛んとなった奈良時代には、（ 3 ）天皇が仏の力で国を守り、戦乱や伝染病などの不安を取り除こうとししました。そして、国ごとに国分寺や国分尼寺を建て、都には②東大寺の大仏をつくって、政治や社会の安定をはかろうとししました。
- D** 平治の乱に勝利した平清盛は、武士として初めて（ 4 ）に就きました。清盛は平氏一族を高い官職や位に就けて実権をにぎり、多くの荘園や国々を支配しました。また、③港を整えて日宋貿易にも力を入れました。
- E** モンゴル帝国の皇帝である（ 5 ）は、国号を元と改め、中国全土を支配しました。元は、日本にも朝貢と服属を要求しましたが、8代執権北条時宗はこれを退けました。そのため、④元は2度にわたり攻めよせました。
- F** 14世紀半ば、3代将軍（ 6 ）は明の皇帝から倭寇の取り締まりの要求を受けて、その申し入れに応じました。そして、正式な貿易船に勘合という合い札を使用する⑤日明貿易を行いました。
- G** 老中松平定信は、農村と幕府の財政を再建するために、質素・儉約を目標にかかげる⑥寛政の改革を行いました。また、この改革では、人材育成のために幕府の学問所で（ 7 ）学以外の儒学を禁止しました。

H 明治政府は、立憲体制の樹立に備えて⑦内閣制度を定めました。さらに、天皇の相談にこたえる機関として枢密院を設置し、憲法の草案が審議され、1889年に⑧大日本帝国憲法が発布されました。

I 日本は、1914年にドイツに宣戦布告し、⑨連合国側で第一次世界大戦に参戦しました。翌年、日本は中国に対して、ドイツが持つ山東省の権益を日本にゆずることなどを内容とした⑩二十一か条の要求を示し、大部分を認めさせました。

J 太平洋戦争が終結し、アメリカの（ 8 ）を最高司令官とするGHQ（連合国軍最高司令官総司令部）の指令に従って、日本政府が政策を実施する間接統治の方法が採られました。そして戦前の軍国主義を排除し、民主化を推し進める⑪戦後改革が行われました。

問1 （ 1 ）～（ 8 ）にあてはまる最も適切な語句や人物名を、それぞれ答えなさい。

問2 Aの文について、この時代のものとして正しいものを、次のア～エからすべて選んで、記号で答えなさい。

ア



イ



ウ



エ



問3 下線部①について、聖徳太子と共に天皇を中心とする国家のしくみを整えた人物として正しいものを、次のア～エから1つ選んで、記号で答えなさい。

ア 蘇我入鹿

イ 蘇我蝦夷

ウ 蘇我馬子

エ 蘇我稻目

問4 下線部②について、東大寺の正倉院に保存されているものとして誤っているものを、次のア～エから1つ選んで、記号で答えなさい。

ア



イ



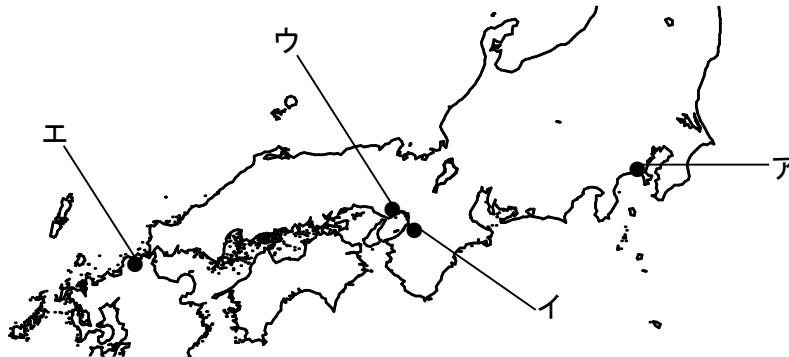
ウ



エ



問5 下線部③について、平清盛が整備した港の位置として正しいものを、次のア～エから1つ選んで、記号で答えなさい。



問6 下線部④について述べた文章 a・b の正誤の組み合わせとして正しいものを、下のア～エから1つ選んで、記号で答えなさい。

- a 元軍は海岸に築かれた防塁（石築地）にはばまれて上陸できず、また暴風雨にあって大損害を受けて引き上げた2度目の襲来を文永の役という。
- b 元軍が撤退した後、幕府は活躍した御家人に対して、恩賞として領地を十分に与えたので、御家人の勢力が大きく拡大した。

ア a－正 b－正

イ a－正 b－誤

ウ a－誤 b－正

エ a－誤 b－誤

問7 下線部⑤について、この貿易の主要な輸入品として正しいものを、次のア～エから1つ選んで、記号で答えなさい。

ア 木綿

イ 銀

ウ 銅銭

エ 刀剣

問8 下線部⑥について、松平定信が老中に就いていた頃に起こった世界の出来事として正しいものを、次のア～エから1つ選んで、記号で答えなさい。

- ア フランス革命が起こった。
- イ インドの大反乱が起こった。
- ウ スイスでカルバンが宗教改革を始めた。
- エ イギリスで名誉革命が起こった。

問9 下線部⑦について、初代内閣総理大臣として正しいものを、次のア～エから1つ選んで、記号で答えなさい。

ア



イ



ウ



エ



問10 下線部⑧について、大日本帝国憲法の内容として誤っているものを、次のア～エから1つ選んで、記号で答えなさい。

- ア 天皇は陸軍や海軍を率いる権限を持っていた。
- イ 帝国議会は衆議院と貴族院の二院で構成され、両院とも国民が選挙で選んだ。
- ウ 天皇は、条約の締結、開戦や講和の権限を持っていた。
- エ 国民は、法律の範囲内において言論や信教などの自由が認められていた。

問11 下線部⑨について、日本が参戦する理由となった、1902年に結ばれた協約を何とといいますか。漢字4字で答えなさい。

問12 下線部⑩について、この要求が示された際に中国を率いていた人物として正しいものを、次のア～エから1つ選んで、記号で答えなさい。

ア 蔣介石 イ 孫文 ウ 毛沢東 エ 袁世凱

問13 下線部⑪について、戦後改革の内容として誤っているものを、次のア～エから1つ選んで、記号で答えなさい。

- ア 日本の産業・経済を独占してきた財閥の解体が行われた。
- イ 教育基本法が定められ、義務教育は男女共学の9年間とされた。
- ウ 政府が地主の農地を買いあげ、小作人に安く売りわたす農地改革が行われた。
- エ 選挙法が改正され、25歳以上のすべての男性に選挙権が与えられた。

4 次の文章は、昨年のある新聞の社説です。文を読んで、後の問いに答えなさい。

英知と勇気で苦難乗り越える。あけましておめでとう、という平凡な新年のあいさつを元気に交わせることがどれほど貴いか、改めて思い知る年明けである。風景は一変した。恒例の一般参賀は取りやめとなり、年頭の、①天皇陛下の国民向けあいさつはビデオメッセージとなった。だれが1年前に、翌年の元日をこのような困難の中で迎えることになるか、想像しただろうか。しかし、ピンチはチャンスという。新型コロナウイルスの感染拡大という大災厄が、医療体制の脆弱性や社会の歪みなど、さまざまな問題点に気づかせてくれたことは幸いだったと思いたい。なすべき改革を断行し、苦難を乗り越えて、平和で健康な、そして活力ある社会を築き直す好機としなければならない。今年はその出発点となる。そのためには何よりもまず、コロナ禍の収束に全力をあげるべきである。②経済との両立が必要なのは当然だが、感染の拡大を抑えないことには経済活動も順調に回転するはずがない。経済を破壊する要因はさまざままで、対策も一様ではない。地震や台風などの災害は、生産設備の損壊で供給に打撃を与えるから、インフラの復興が急務となる。バブル崩壊では③金融システムの立て直しと需要の喚起が必要になる。

感染抑止が最優先課題。感染症は人の接触から蔓延し、生産活動を妨げて、供給と需要を同時に阻害する。そうだとすれば、対策としてはコロナを収束させることが第一となる。なすべきことは、米国のシンクタンク（新経済思考研究所）の論文の、簡潔な表題の言葉に示されている。「経済を救うには、まず人を救え」遅すぎたとはいえ、菅首相が「Go To Travel」事業を年末年始の期間、一時停止したことは評価してよかろう。もしこれを機にコロナが収束に向かい、オリンピック・パラリンピックが無事に開催されるようになれば、日本は世界に対して胸を張れるだろう。しかし、仮にそうしたベストシナリオが実現したとしても、感染症との戦いがそれで終わるわけではない。ワクチンが普及するには時間がかかるし、いつ感染が再拡大するかわからない。あるいはコロナとは別種の新たな疫病が、何年か後に襲来するかもしれない。実際、2010年には、④厚生労働省の専門家会議が、新型インフルエンザの経験を踏まえて、保健所など専門機関や人員の体制強化を提言していた。それがほとんど忘れ去られていた結果が、今回のコロナ禍での大混乱である。その轍を踏んではならない。医療体制の強化は、今ただちに着手すべき緊急課題であることを認識する必要がある。コロナ禍は日本だけの問題ではない。世界中が大混乱のさなかにある。人の往来、ワクチンの供給、医療対策など、国際社会全体が協力し合わなければ、この困難は乗り切れない。経済を再生するにも、サプライチェーン（供給網）や生産拠点の確保など、安定した国際協調体制がなければおぼつかない。ところが、貿易摩擦や安全保障問題

をめぐる米中関係の険悪化によって、世界は緊張を高めている。経済のグローバル化は世界経済の発展を促したが、その恩恵を活用して力をつけた中国は、軍事力の拡大を加速させている。東シナ海、南シナ海など海洋進出にとどまらず、宇宙やサイバー空間にまで、勢力圏を広げつつある。

世界は変動期に入った。トランプ政権下の米国は、「自国第一主義」を掲げて独自の核・通常戦力の強化を目指し、中国、ロシアなどとの対決姿勢を強めてきた。英国の欧州連合（EU）離脱、中東情勢の流動化も加わり、世界は大変動のただ中にある。地球温暖化など環境問題をめぐっては、国際社会の一致した努力が求められる一方で、環境規制の基準作りでは各国の対立と競争が繰り広げられてもいる。コロナ禍の混乱と国際秩序の動揺。協調と競争。四つの要素が絡み合いながら同時進行する、複雑な時代である。状況に適応するためには自己改革が必要だ。しかし同時に、変化に引きずられて平和と安全、自由と民主主義など、国家の基本に関わる大切な価値を失うことがあってはならない。何を変え、何を守り抜くか。物事を見極める英知と実行する勇気が、いま問われている。日本は、まずバイデン米新政権との間で日米同盟の強化を急ぐとともに、国際社会の課題解決の努力やルール作りに積極的に参加して、発言権を確保すべきだ。事態を傍観していたら、不利な条件を押し付けられ、国益を損なうことになりかねない。「脱ガソリン車」の開発、デジタル技術の活用などは、いったん立ち遅れると高い外国製品の購入や特許料の支払いを強いられることになる。国民の負担は増え、国内産業は空洞化する。状況に追随するのではなく、進んで難題に立ち向かうべきだろう。国内の態勢を整えたいうえ、むしろ宇宙を資源争奪の場にしないことなど、新しい多国間協調の枠組み形成に向けて先導役を果たすのが、日本の役割ではないか。そのためにも、大事なものは国力である。基盤をなすのは経済力だ。日本の経済構造の立て直しに取り組まなければならない。コロナ禍が収束したとしても、それで日本経済の長年の病根がすっかり解消するわけではないからだ。

国力の充実を目指せ。心配なのは成長の鈍化だ。企業の内部留保は 475 兆円、個人の金融資産は 1901 兆円と、空前のカネ余り状態だが、企業の投資も個人消費も低迷したままだ。先行きの不透明感に伴う不安がブレーキをかけているのだろう。成長戦略とともに、⑤社会保障制度改革を断行して、社会の活力を取り戻さなければならない。また、国の借金残高は 1000 兆円を超えている。国と地方の長期債務残高が⑥GDPの 2 倍超という財政の危機的状況を放置することも許されない。経済発展の原動力となる技術は、国力の重要な要素だ。昨年末の小惑星探査機「はやぶさ 2」の活躍は、日本の技術力の高さを実証した。ノーベル賞受賞の日本人科学者も多い。

人材の流出を防ごう。それなのに IT やデジタル技術では立ち遅れが指摘されている。一体なぜなのか。原因はいくつかあろうが、その一つに技術者や研究者を大切に

しない企業風土があるのではないか。生産性向上や効率化を重視するあまり、人減らしで見かけの数値の改善を優先すると、優れた技術を持った人材は中国や韓国の企業にスカウトされてしまう。そんなケースがいくつもあった。今も、日本の大学や研究所ではポストが得られないからと、中国の研究所に高給で採用される若手研究者が多いといわれる。貴重な人材をみすみす流出させることが、日本の国力にとってどれほど大きな損失か。⑦中小企業の生産性が低いと批判する新自由主義的な言説が目立つが、「はやぶさ2」を支えた技術者の多くが数十人規模の町工場の人たちだったことを、見落としてはならないだろう。技術も人間の営みである。人間力こそ国力の礎であることを思い起こしたい。デジタル化の問題でも、同様のことがいえる。国と地方の行政手続きなどは、システムをデジタル化して、国民の利便性を高める必要がある。しかし、教科書のデジタル化となると話は別だ。デジタル機器の動画や音声を副教材として活用するのは有効だろうが、紙の教科書をやめてデジタル・タブレットに切り替えるなど、本末転倒も甚だしい。書物を読み、文章を書くことで人間は知識や思考力を身につけ、人間として成長する。数学者の岡潔が言っている。「人の中心は情緒である」（春宵十話）。教育の基本を間違えてはならない。政治の安定も、国力の大事な要素である。経済力がいくら大きくても、指導者が国民から信頼されなければ、足元が脆弱であることを見透かされて、他国もその指導者を信頼してくれないだろう。為政者が国会答弁でウソをつく、疑問をもたれる政治決定について頑かたくなに説明を拒み続ける、などの姿は、寒心に堪えない。

政治の信頼は国の礎だ。激動する世界にあって、国家の平和と安全を確保していくには、日本の立場について国際社会の理解を勝ち取るための、対外発信力が不可欠だ。

（中略）日米共同世論調査によると、公共機関などの信頼度調査で、日本の⑧国会は23%と、最下位だった。同じ最下位の米議会（33%）と比べても、情けない限りだ。与野党の指導者はそのことを肝に銘じて行動してほしい。国民もまた、政治に対してしっかりした意見を持たねばならない。今年は⑨選挙の年でもある。

問1 下線部①について、天皇に関する文章A・Bの正誤の組合せとして正しいものを、下のア～エから1つ選んで、記号で答えなさい。

A 天皇は、国政に関する権能をもたないと定められており、憲法に定められた国事行為のみを国会の助言と承認により行います。

B 憲法では、天皇は日本国と日本国民統合の象徴であり、この地位は、主権者である国民の総意に基づくと定めています。

ア A－正 B－正

イ A－正 B－誤

ウ A－誤 B－正

エ A－誤 B－誤

問2 下線部②について、景気の変動により市場経済では多くの財やサービスの価格が上がったり下がったりします。物価が持続的に上昇することを何といいますか。答えなさい。

問3 下線部③について、次の文は金融に関する説明文です。文中（ あ ）にあてはまる語句を答えなさい。

「各国の（ あ ）は、お金の量が経済活動の大きさに比べて多すぎたり少なすぎたりしないように、経済全体に流通する現金と預金の総額を管理する責任を負っています。日本の（ あ ）である日本銀行は、日本の紙幣を発行できる唯一の銀行です。」

問4 下線部④について、ある食品を食べて事故が発生した場合、今後の改善のため厚生労働省が行う内容として正しいものを、次のア～エから1つ選んで、記号で答えなさい。

ア 原材料の表示等で品質保証を行う。

イ 衛生面の安全を確保する。

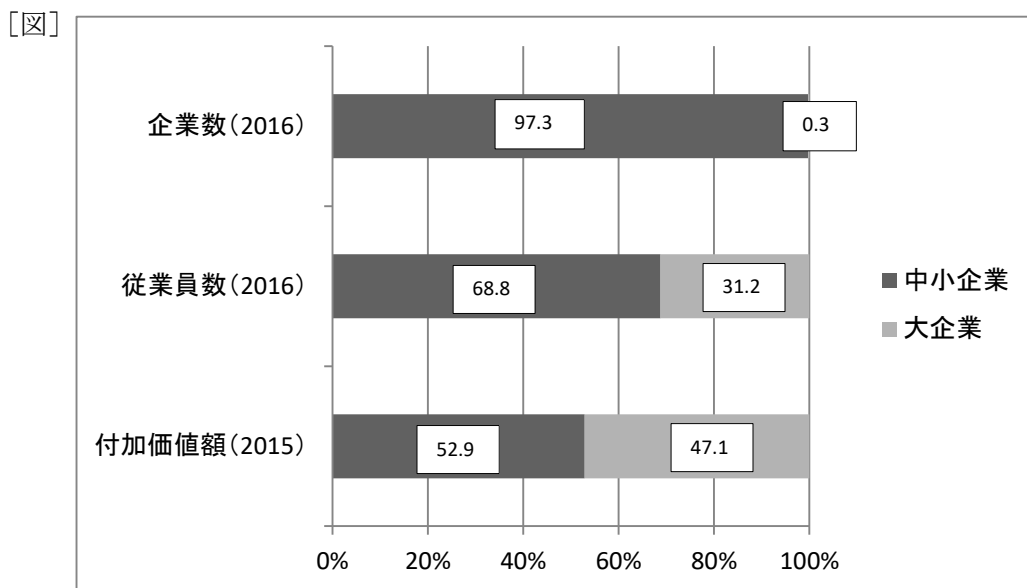
ウ 製品欠陥による被害者を保護する。

エ 相談窓口を一元化し、情報の集約と共有を行う。

問5 下線部⑤について、社会保障制度の1つで、病気やケガ、老齢、障害、死亡、失業など安定した生活をさまたげられる事故に対して、現金や医療の給付を行うしくみを何といいますか。答えなさい。

問6 下線部⑥について、GDPの正式名称を何といいますか。漢字5字で答えなさい。

問7 下線部⑦について、次の〔図〕は大企業と中小企業に関するグラフです。この〔図〕から読み取ることができる内容として誤っているものを、次のア～エから1つ選んで、記号で答えなさい。



[中小企業白書 2020年版による]

- ア 日本の企業の多数は、中小企業である。
- イ 1社あたりの従業員数は、中小企業より大企業の方が多い。
- ウ 従業員1人あたりの付加価値の生産額は、大企業より中小企業の方が少ない。
- エ 大企業より中小企業の方が、商品の販売単価が高い。

問8 下線部⑧について、国会に関する文章 a～c のうち正しいものはどれですか。
あてはまる文章をすべて選び、その組合せとして最も適当なものを、下のア～ク
から1つ選んで、記号で答えなさい。

- a 毎年1月中に会期120日の常会が開かれる。
- b 内閣提出法案より議員提出法案の方が成立する確率が高い。
- c 憲法改正の発議や法律案の議決などには、衆議院の優越がある。

- | | | |
|---------|------------|-------|
| ア a | イ b | ウ c |
| エ aとb | オ aとc | カ bとc |
| キ aとbとc | ク 正しいものはない | |

問9 下線部⑨について、各選挙区から1人ずつ選ぶ選挙制度を何といいますか。答
えなさい。

問10 この社説の表題としてあてはまるものを、次のア～エから1つ選んで、記号で
答えなさい。

- ア 「民主主義諸国の結束を示した」
- イ 「東京五輪開幕へ コロナ禍に希望と力届けたい」
- ウ 「来年度予算編成 効果的な使い道を精査せよ」
- エ 「平和で活力ある社会築きたい」