

令和6年度

上宮太子高等学校 入学試験問題

# 社 会

(50分)

〔注意〕 次の(1)～(5)をよく読むこと。

## 注 意 事 項

- (1) この問題冊子は、「開始」の合図があるまで開いてはいけません。
- (2) 問題は、**1**から**4**まであります。印刷不鮮明、ページの落丁・乱丁等に気付いた場合は、挙手して監督者に知らせなさい。
- (3) 解答用紙は、別に1枚あります。解答はすべて解答用紙に記入しなさい。
- (4) 受験番号・名前は、問題冊子と解答用紙の両方に記入しなさい。
- (5) 「終了」の合図で、筆記用具を置きなさい。

| 受 験 番 号 |  |  |  | 名 前 |
|---------|--|--|--|-----|
|         |  |  |  |     |

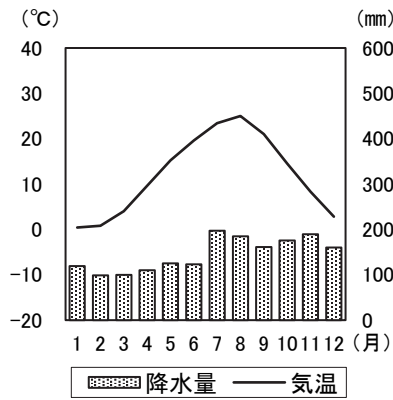
1 次の〔地図〕を見て、後の問いに答えなさい。

〔地図〕

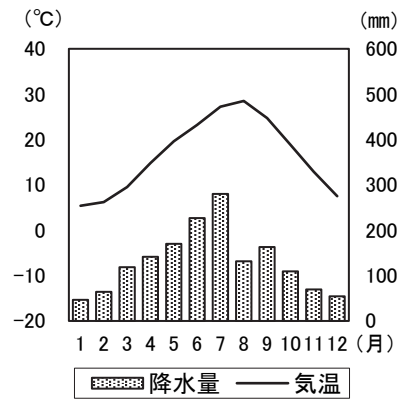


問1 次の雨温図は、[地図] 中Ⅰ～Ⅳのいずれかの都市のもので、Ⅱの都市にあてはまるものを、次のア～エから1つ選んで、記号で答えなさい。

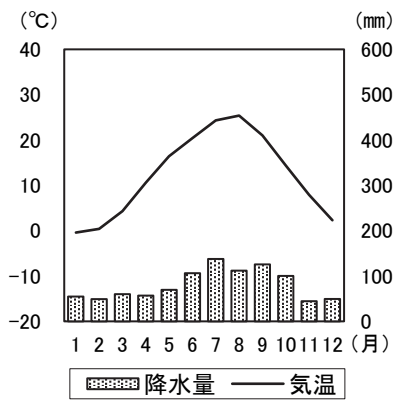
ア



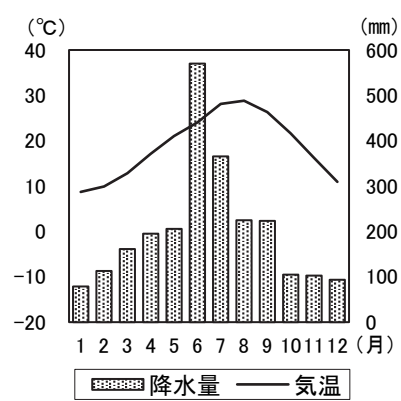
イ



ウ



エ



[気象庁ホームページによる]

問2 [地図] 中Aの都道府県の十勝平野を中心に、次の[図]のように耕地をいくつかの区画に分けて、毎年栽培する作物を変える農業が行われています。このような農業を何といいますか。漢字2字で答えなさい。

[図]

| 1年目  |       | 2年目   |      | 3年目   |      |
|------|-------|-------|------|-------|------|
| てんさい | 小麦    | 小豆    | てんさい | じゃがいも | 小豆   |
| 小豆   | じゃがいも | じゃがいも | 小麦   | 小麦    | てんさい |

問3 [地図] 中Bの都道府県の伝統的工芸品を撮影したものとして正しいものを、次のア～エから1つ選んで、記号で答えなさい。

ア



イ



ウ

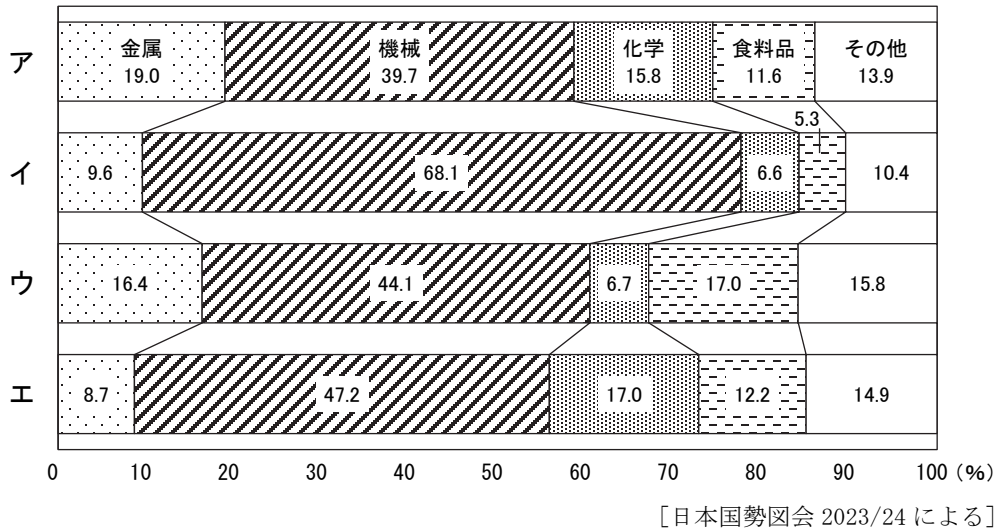


エ



問4 次の〔図〕は、4つの工業地帯の工業製品出荷額の割合を示しています。〔地図〕中Cの都道府県が属する工業地帯を示すものを、次のア～エから1つ選んで、記号で答えなさい。

〔図〕



問5 〔地図〕中Dの都道府県に河口がある河川として正しいものを、下のア～エから1つ選んで、記号で答えなさい。

- ア 吉野川      イ 四万十川      ウ 揖斐川      エ 天竜川

問6 [地図] 中Eの都道府県の農業について、次の[表]はこの都道府県が属する九州地方にある都道府県の農業産出額の内訳を示しています。[地図] 中Eの都道府県を示すものを、次のア～エから1つ選んで、記号で答えなさい。

[表]

| (2020年)<br>(億円) | 計     | 米   | 野菜    | 果実  | 畜産物   |
|-----------------|-------|-----|-------|-----|-------|
| ア               | 1,977 | 344 | 707   | 239 | 383   |
| イ               | 3,348 | 173 | 681   | 129 | 2,157 |
| ウ               | 3,407 | 361 | 1,221 | 338 | 1,192 |
| エ               | 1,219 | 227 | 343   | 197 | 342   |
| 長崎県             | 1,491 | 104 | 471   | 140 | 532   |
| 大分県             | 1,208 | 187 | 351   | 131 | 430   |
| 鹿児島県            | 4,772 | 208 | 562   | 98  | 3,120 |
| 沖縄県             | 910   | 5   | 127   | 60  | 397   |

[データでみる県勢 2023 による]

問7 [地図] 中A～Eの都道府県で、都道府県名と県庁所在地名が一致しないものを、[地図] 中A～Eからすべて選んで、記号で答えなさい。

問8 [地図] 中Xは、夏に暖流と寒流が交わる場所を示しています。暖流と寒流が交わる場所を何とといいますか。答えなさい。

問9 [地図] 中Yは、「糸魚川・静岡構造線」と呼ばれる本州を地質的に分ける大きな溝の西縁を示しています。この大きな溝を何とといいますか。カタカナで答えなさい。

問10 [地図] 中Zの島について述べた文章a・bの正誤の組み合わせとして正しいものを、下のア～エから1つ選んで、記号で答えなさい。

a 樹齢1000年をこえる縄文杉などがあり、世界自然遺産に登録されています。

b 活動している火山があり、火山灰が積もってできたシラスが広がっています。

ア a - 正      b - 正      イ a - 正      b - 誤

ウ a - 誤      b - 正      エ a - 誤      b - 誤

- 2 次の[表]は、10の世界の国々の地理的な資料をまとめたものです。[表]の(あ)～(え)にあてはまる国を[地図]中A～Jからそれぞれ選びなさい。そして、その国の様子を[説明文]の①～④からそれぞれ選んで、記号で答えなさい。また、後の問いに答えなさい。

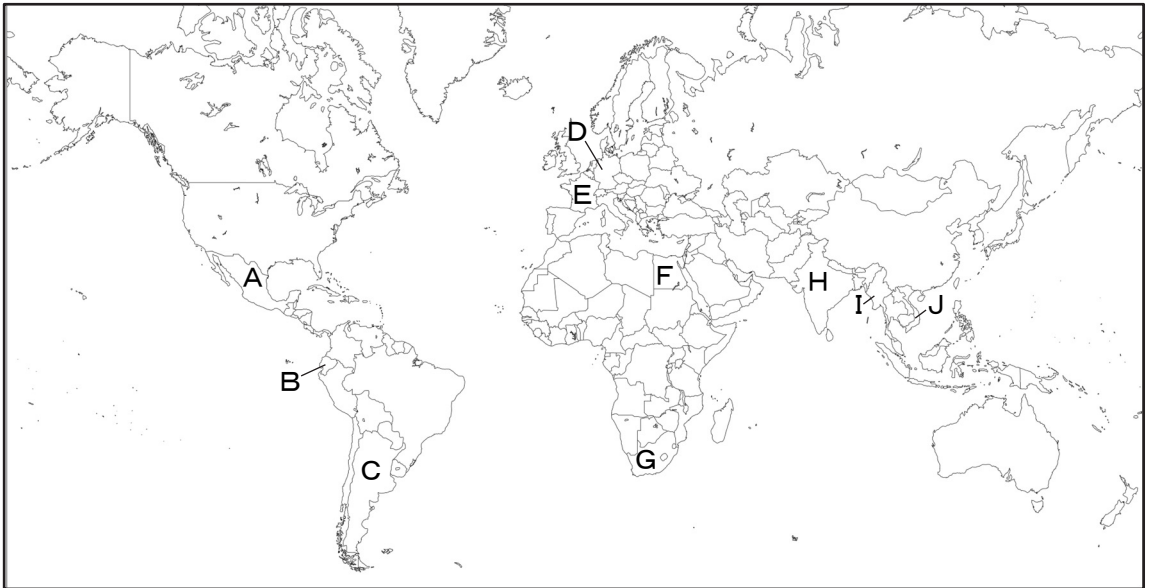
[表]

|        | 1人あたりの<br>国内総生産<br>(ドル)<br>(2020年) | とうもろこしの<br>生産量<br>(万トン)<br>(2020年) | 茶の<br>生産量<br>(万トン)<br>(2020年) | 牛の<br>飼育頭数<br>(万頭)<br>(2019年) | 繊維工業の<br>出荷額<br>(万トン)<br>(2019年) | 石炭の<br>産出量<br>(万トン)<br>(2019年) | 貿易額<br>(億ドル)<br>(2021年) |
|--------|------------------------------------|------------------------------------|-------------------------------|-------------------------------|----------------------------------|--------------------------------|-------------------------|
| 中国     | 10229                              | 26067                              | 349                           | 6098                          | 7407                             | 384633                         | 60515                   |
| (あ)    | 2786                               | 456                                | 126                           | 623                           | 316                              | 4716                           | 6675                    |
| ドイツ    | 45909                              | 402                                | -                             | 1130                          | 182                              | -                              | 30512                   |
| (い)    | 1931                               | 3016                               | 210                           | 19448                         | 864                              | 73087                          | 9679                    |
| 南アフリカ  | 5094                               | 1530                               | -                             | 1230                          | 36                               | 25785                          | 2376                    |
| (う)    | 38959                              | 1342                               | -                             | 1779                          | 155                              | -                              | 12993                   |
| ブラジル   | 6797                               | 10396                              | -                             | 21815                         | 193                              | 541                            | 5155                    |
| (え)    | 8326                               | 2743                               | -                             | 3564                          | 74                               | 330                            | 10167                   |
| アルゼンチン | 8476                               | 5840                               | 66                            | 5446                          | 49                               | -                              | 1411                    |
| スペイン   | 27409                              | 421                                | -                             | 664                           | 98                               | -                              | 8027                    |

-はデータがないことを示す。[世界国勢図会 2022/23 による]



[地図]



[説明文]

- ① 仏教が生まれた国ですが、現在は国民の8割ほどがヒンドゥー教を信仰しています。多民族国家であるため、紙幣は17言語の言葉で書かれています。政府が高額紙幣の停止を発表しましたが、情報通信産業が急成長していることから、現在では、電子マネーが普及しています。
- ② この国の首都にはルーブル美術館や凱旋門、エッフェル塔といった観光名所があり、2024年に夏季オリンピックが開催される予定です。この国の南部には、航空機会社であるエアバス社の最終組立工場がありますが、①航空機の部品は周辺国でつくられています。
- ③ この国にあったアステカ王国は16世紀にスペインに滅ぼされました。この王国の中心都市は現在の首都です。首都の都市は標高が2000m以上の高地にあり、周囲を山で囲まれた盆地であるため、空気が薄く、汚染された空気が拡散しにくいいため大気汚染が深刻な問題となっています。

- ④ 1960年代に始まったアメリカとの戦争に勝利した後、分断されていた国は社会主義国として統一されました。1980年代に経済の自由化政策を打ち出し、製造業に力を入れました。近年では、中国より賃金が安いこの国に進出する日本企業が増えています。

**問1** 下線部②について、周辺国でつくられた部品は関税がかかることなく②の国へ送られます。これは、②の国やその周辺国が経済的につながっているからです。この経済機構を何といいますか。答えなさい。

**問2** わが国が1月15日午前11時の時、ドイツの首都であるベルリン（東経15度）は1月何日の午前もしくは午後何時ですか。答えなさい。

3 次のA～Hの文章は、日本の各時代の様子について述べたものです。各文を読んで、後の問いに答えなさい。

- A 中国の歴史書「( 1 )」には、邪馬台国では人々が税として物を納め、兵役や労役についていたという記載があります。また、聖徳太子が定めた( 2 )にも、天皇の代わりに諸国で政治を行う官吏が、勝手に人々から税をとってはならないと私的な徴税を戒めています。これらからは具体的な税の制度は見えてきませんが、①大化の改新で新しい政治の方針が示され、約50年後にできた大宝律令で具体的な税の制度が定められました。
- B 奈良時代には、人々は②租・庸・調という税や、兵役や労役を負担しました。人々の中には負担の重さに耐えかねて、戸籍の性別や年齢を偽ったり、居住地から逃げ出したりする者たちが出てきました。農村では鉄製の農具が徐々に広まり、生産力が向上し人口が増加したことから、口分田が不足し始めました。朝廷は、③墾田永年私財法を定め、新たに開墾した土地の私有を認めました。土地の私有は認められましたが、税を納める必要はありました。
- C 平安時代、力をつけた藤原氏は自分たちの一族で官職を独占するようになりました。朝廷の儀式などで功績をあげた者が④国司に任じられるようになり、その中には自分の収入を増やすことに努めるなどの不正を働く者もいました。10世紀には、朝廷から農民に口分田を与える( 3 )が実施されなくなり、地方の政治は乱れました。また、このころ大きな寺社や貴族、地方の有力者などの荘園が各地にできました。
- D 荘園の持ち主は、国司の税の取り立てから逃れるため、藤原氏や東大寺などの大きな寺社に表向きの所有者になってもらい、税を免除される権利を得ました。地方の有力者たちは、荘園の管理を任されていただけでなく、国司から公領の支配を任されるようになったため、地方の有力者たちの支配が強まるようになりました。農民たちは、荘園や公領の領主に年貢などを納めました。⑤鎌倉幕府は荘園や公領に地頭を設置しました。⑥鎌倉時代の農民は荘園領主に納める年貢の他に、地頭に対する労役などの負担を強いられました。

- E 室町幕府は、自らの直轄地が少なく、そこから得られる収入が少ないため、様々な方法で財源を確保しました。商業活動の発達により商工業者に対して税を課しました。また、街道に（ 4 ）を設けて通行料をとったり、港にも税をかけたりしました。また、⑦金融業者を保護する代わりに、税をとっていました。さらに⑧幕府は収入をより安定させようと中国に対して臣下の立場になる形で朝貢貿易を行い、収入を得ました。
- F 全国統一を行った（ 5 ）は、土地を調査する太閤検地を行い、農地の面積だけでなく、農地の収穫高などを調べて年貢を納めさせるようにしました。江戸時代もこの制度が引き継がれ、農民に年貢を納めさせました。その年の収穫量に応じて年貢を納める方法が主にとられていましたが、徳川吉宗が将軍の時に検地帳に記載されている農地の収穫高に応じて納める方法へと変わりました。商工業の発展に目をつけた⑨田沼意次は、（ 6 ）と呼ばれる同業者組合に商売の特権を認める代わりに税を納めさせました。
- G 明治政府は歳入の安定を図るため、（ 7 ）改正を実施し、地価の3%を現金で納めさせました。また、所得税や法人税が導入されたのもこの頃です。明治時代の中頃までは、政府の収入に占める（ 7 ）の割合は高かったのですが、後期には2割程度までになりました。⑩外国との戦争で戦費を調達するために、増税をしたり、新しい税を決めたりしたため、国民の負担は大きくなりました。
- H 戦後に公布された⑪日本国憲法には三大義務の1つとして「納税の義務」が定められました。日本における長期的・安定的な税制と税務行政の確立を図るため、（ 8 ）を総司令官とするGHQの要請により、アメリカの経済学者の使節団が来日しました。この使節団は日本国内を調査して、報告書を提出しました。この報告書に基づいて、直接税を中心とした戦後の日本の税制度がつけられました。⑫1989年に、商品の販売やサービスの提供に対して3%の税金を納める消費税の導入や、所得税の減税などを含む大幅な税制の改革が行われました。

問1 ( 1 ) ~ ( 8 ) にあてはまる最も適当な語句や人物名を、それぞれ答えなさい。

問2 下線部①について、この改革の中心となり、のちに天智天皇として即位した人物を答えなさい。

問3 下線部②について述べた文章 a・b の正誤の組み合わせとして正しいものを、下のア～エから1つ選んで、記号で答えなさい。

a 租は稲の収穫の一部を納めるもので、男女とも負担しました。

b 庸は地元の特産物を、調は働く代わりに布を都に納めるものでした。

ア a - 正      b - 正      イ a - 正      b - 誤

ウ a - 誤      b - 正      エ a - 誤      b - 誤

問4 下線部③について、墾田永年私財法が発布された年代と最も近い年代に世界で起こった出来事として正しいものを、次のア～エから1つ選んで、記号で答えなさい。

ア キリスト教がローマ帝国の国教となった。

イ 紙の製法が唐からイスラム世界へと伝わった。

ウ 第1回の十字軍の遠征が始まった。

エ インドにムガル帝国がおこった。

問5 下線部④について述べた文章 a・b の正誤の組み合わせとして正しいものを、下のア～エから1つ選んで、記号で答えなさい。

- a 尾張の国司藤原頼通は、地元の郡司や百姓に訴えられました。
- b 藤原純友は、関東地方の国司を制圧して新皇を名乗りました。

ア a - 正      b - 正      イ a - 正      b - 誤  
ウ a - 誤      b - 正      エ a - 誤      b - 誤

問6 下線部⑤について、鎌倉幕府の執権北条泰時が定めた、初めての武士法を何と  
いいますか。漢字5字で答えなさい。

問7 下線部⑥について、鎌倉時代の産業について述べたものとして正しいものを、  
次のア～エから1つ選んで、記号で答えなさい。

- ア 米を収穫した後に麦を植える二毛作が、西日本で広まった。
- イ 千歯こきなどの新しい農具や、油粕などの金肥が使われるようになった。
- ウ 麻・桑・藍・茶などの栽培が広がり、朝鮮から綿花が伝わった。
- エ 商人から道具などを借りて、布を織って商人に納めていた。

問8 下線部⑦について、次の [資料] は室町時代に運送業者たちが中心となって一揆をおこした時の様子について書かれたものをやさしく直したものです。この一揆として正しいものを、下のア～エから1つ選んで、記号で答えなさい。

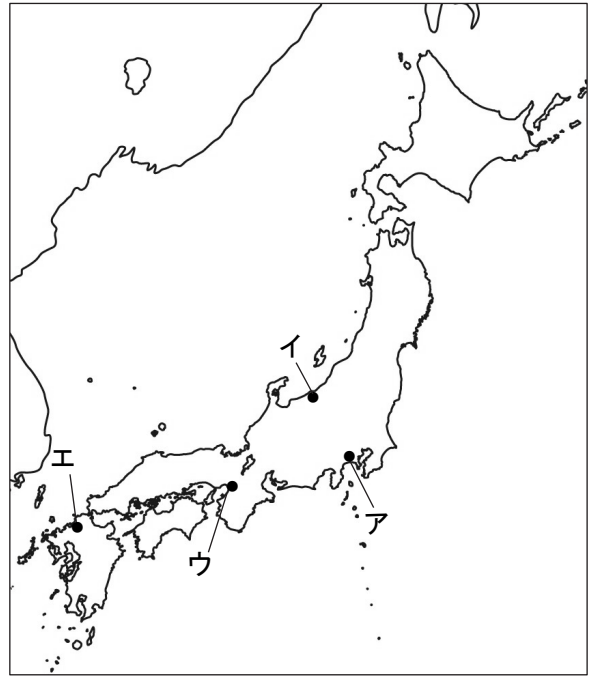
[資料]

天下の土民たちが一斉に立ち上がった。借金の帳消しを要求して、酒屋、土倉、寺院等を破壊して、中にあったものをほしいままに奪い取り、借用書をことごとく破っていった。…

ア 土一揆      イ 国一揆      ウ 世直し一揆      エ 一向一揆


問9 下線部⑧について、この貿易は、のちに有力な守護大名が主導権を握るようになりました。そのうち大内氏が拠点としていた博多の位置としてあてはまるものを、右の〔地図〕中ア～エから1つ選んで、記号で答えなさい。

〔地図〕



問10 下線部⑨について、右の〔図〕は田沼意次が老中だった時に出版された『解体新書』の表紙です。この本の主な著者を、次のア～エから1つ選んで、記号で答えなさい。

〔図〕



- |        |        |
|--------|--------|
| ア 青木昆陽 | イ 平賀源内 |
| ウ 杉田玄白 | エ 伊能忠敬 |

問11 下線部⑩について、1868（明治元）年～1945（昭和20）年の間に勃発した戦争を、年代の古い順に並べ替えたとき、3番目に来るものとして正しいものを、次のア～エから1つ選んで、記号で答えなさい。

- ア 朝鮮や満州の権益をめぐって、ロシアと戦った。
- イ ハワイの真珠湾を攻撃して、アメリカと戦争を始めた。
- ウ 日本はドイツに宣戦布告をして、中国のドイツ権益を奪った。
- エ 朝鮮で起こった甲午農民戦争をきっかけに中国と戦った。

問12 下線部⑪について、日本国憲法の施行日を答えなさい。

問13 下線部⑫について、この年に起こった出来事を撮影したものとして正しいものを、次のア～エから1つ選んで、記号で答えなさい。

ア



イ



ウ



エ





4 次の文章は、ある新聞の社説です。文章を読んで、後の問いに答えなさい。

「男女共同参画社会」の実現を最重要課題と位置づけた基本法の制定から四半世紀。さまざまな取り組みがなされてはきたが、特に政治、経済分野の遅れは著しい。①不平等の是正に向けた努力を、社会全体で加速させねばならない。

世界経済フォーラムが毎年、発表している男女格差の報告書の最新版で、日本の順位が調査対象となった146カ国中125位と、過去最低となった。

政治、経済、教育、健康の4分野のデータを総合したもので、日本は教育、健康では、ほぼ平等を達成し、教育は47位、健康は59位だったが、138位の政治、123位の経済が大きく足を引っ張った。

政治の指標である衆院議員に占める女性の割合は10%に過ぎず、女性②閣僚も19人中2人\*だけだ。候補者男女均等法の施行後初となった前回の衆院③選挙でも、女性の当選者はかえって2人減る始末だった。

かぎを握るのは、国会の最大勢力で、取り組みが遅れる自民党だ。同党は今週、「女性議員の育成、登用に関する基本計画」を発表。女性国会議員の比率を、現在の11%から、今後10年間で30%に引き上げる目標を掲げた。確実に実現するとともに、前倒しも検討すべきだ。

④参院に比べ、衆院で女性議員が増えにくい背景に、小選挙区の公認の現職優先の原則がある。基本計画には、女性が候補者に選ばれやすくなるよう、選挙区での原則公募の徹底や、衆院比例区名簿の上位に女性を登載することなども明記された。掛け声だけでなく、その実効性が問われる。

経済分野の指標は、⑤労働参加率の男女比など5項目あるが、日本が特に低かったのは女性の役員・管理職比率で、14.8%にとどまった。⑥内閣府によると、昨年時点の女性役員比率は、大企業中心の東証プライム市場でも11.4%で、3割を超える米欧主要国との差は大きい。女性役員ゼロも、プライム上場企業の2割近くを占める。

⑦経営陣の多様性を重視する機関投資家の間では、⑧女性の取締役を置かない企業のトップ再任に反対する動きが広がる。政府もプライム上場企業の女性役員比率を30年までに30%以上とする目標を打ち出した。

ただ、投資家や政府に促されずとも、率先して格差解消に取り組むのが、経営者の責務だろう。女性の⑨弁護士や学者らを外部から迎える企業も目立つが、社内からの登用を見据え、人材育成に努める必要がある。

女性が働きやすい環境を整えてキャリア形成を後押しし、賃金格差の縮小にもつなげていかなければならない。

※ 2023年9月13日に第2次岸田第2次改造内閣が発足し、女性閣僚は5人となった。

問1 下線部①について、言語や性別、障がいの有無に関係なく誰でも使いやすいように工夫された設計のことを何といいますか。カタカナで答えなさい。

問2 下線部②について、閣僚とは国务大臣のことです。国务大臣について規定した日本国憲法第68条の条文を示した次の〔資料〕中の（ ）にあてはまる語句を、答えなさい。

〔資料〕

第68条 内閣総理大臣は、国务大臣を任命する。但し、その（ ）は、国会議員の中から選ばなければならない。

② 内閣総理大臣は、任意に国务大臣を罷免することができる。

問3 下線部③について、現在の日本の選挙について述べた文として誤っているものを、次のア～エから1つ選んで、記号で答えなさい。

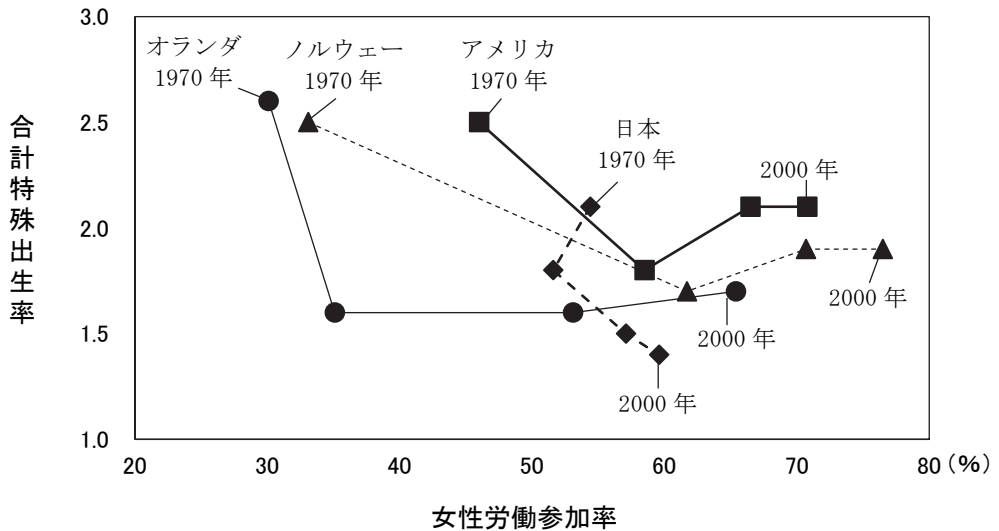
- ア 選挙期日前であっても、投票することができる。
- イ 投票を行う際は、投票用紙に自分の住所、氏名を記入しなければならない。
- ウ 満18歳に達したら、いかなる制限もなく投票権が与えられる。
- エ 有権者は、1人につき1票の投票権を持つ。

問4 下線部④について、参議院について述べた文として正しいものを、次のア～エから1つ選んで、記号で答えなさい。

- ア 立候補できる年齢は25歳以上である。
- イ 任期は4年で、任期途中の解散はない。
- ウ 衆議院の解散時、内閣の求めにより緊急集会が開かれることがある。
- エ 参議院議員通常選挙では議員全員が改選される。

問5 下線部⑤について、次の〔図〕は、女性の労働参加率と合計特殊出生率の関係について1970年から2000年まで、10年ごとの推移を示したものです。次の〔図〕について述べた文章 a・b の正誤の組み合わせとして正しいものを、下のア～エから1つ選んで、記号で答えなさい。

〔図〕



〔内閣府「平成18年版男女共同参画白書」による〕

- a 女性の労働参加率が上がると合計特殊出生率が減少するといいきることはできません。
- b 日本の女性の労働参加率は、1970年には4カ国で最も高かったが、2000年には最も低くなっています。

- ア a - 正      b - 正      イ a - 正      b - 誤
- ウ a - 誤      b - 正      エ a - 誤      b - 誤

問6 下線部⑥について、内閣の下には、総務省とともにマイナンバー制度を担当する庁があります。その庁を、次のア～エから1つ選んで、記号で答えなさい。

- ア こども家庭庁      イ 国税庁      ウ 消費者庁      エ デジタル庁

問7 下線部⑦について、個人の資金を集めて運用している会社などを指す機関投資家は、企業の業績だけでなく、環境保護などの社会貢献についても投資の判断材料としています。「企業の社会的責任」の略称を、次のア～エから1つ選んで、記号で答えなさい。

ア CSR      イ ESG      ウ NGO      エ FTA

問8 下線部⑧について、機関投資家など、ある企業の株式を保有する者が、その企業の提案に対して意見を述べたり、企業に対して提案を行ったりする場を何といいますか。答えなさい。

問9 下線部⑨について、刑事裁判において被告人は弁護士に弁護を依頼できます。また、刑事裁判では一部の裁判において、市民が裁判に参加して罪の有無や量刑を判断します。このような人たちを何といいますか。答えなさい。

問10 この社説の表題としてあてはまるものを、次のア～エから1つ選んで、記号で答えなさい。

- ア 男女格差 基本法の制定を急げ
- イ 男女格差 北欧諸国を見習え
- ウ 男女格差 女性首相の誕生を
- エ 男女格差 政治も経済も是正急げ